

## 6 中国・四国地方

### 1 中国・四国地方はどのような地方だろうか

●地図をながめて…◆**山陰**-中国山地の北側、日本海に面する。冬に多くの積雪。古くから大陸との交流◆**瀬戸内**-瀬戸内海に面した地域。降水量が少ない。農業には**ため池**を利用◆**南四国**-四国山地の南側。太平洋に面する。温暖で降水量が多い。気候を生かした農業、林業、漁業が行われる。

### 2 交通網の発達と地域の生活の変化

●海の道と陸の道…中国・四国地方は古くから近畿地方と九州地方や大陸を結ぶ地域で人や物の行き来が**多岐にわたる**。特に瀬戸内海の船の往来が重要だった◆現在では中国自動車道、山陽自動車道などの高速道路、山陽新幹線の開通で陸上交通でも九州地方と近畿地方を結ぶ。

●橋の開通と生活の変化…**本州四国連絡橋**の開通→船の乗りかえがなくなり移動時間が短縮。鉄道を利用して瀬戸内海をわたって通勤・通学者が増える。橋をわたって大都市に買い物に行く人が増える→便利になった反面、フェリーの利用者が減たことから便の減少、廃止。地元の商店での買い物客の減少などの問題も生じた。

●中心都市**広島市**…中国地方の政治や経済の中心都市。古くから城下町として発展。第二次世界大戦では**原子爆弾**投下の被害。**世界遺産の原爆ドーム**、**厳島神社**には多くの観光客。高速道路や新幹線の利用で人が集まる

### 3 海運と陸運で結びつく工業

●海運で結びつく瀬戸内の工業…古くから製塩業、綿織物工業、造船業が盛ん→1960～1970年代にかけて塩田や遠浅の海岸の埋め立てて工業用地に→瀬戸内工業地域ができる→瀬戸内海を利用して港から大型の専用船で海外から原料や燃料を大量に輸入しやすい、また工業製品を輸出しやすい→製品の重い鉄鋼業や石油化学工業などの重化学工業の立地に適する→岡山県倉敷市の水島(みずしま)、山口県周南市や岩国市などの**石油化学コンビナート**では関連する工場が**パイプライン**でつながり効率よく生産→鉄鋼業や石油化学工業で生産される製品は国内の阪神や中京などの工業地帯や中国、韓国などの海外にも送られる。

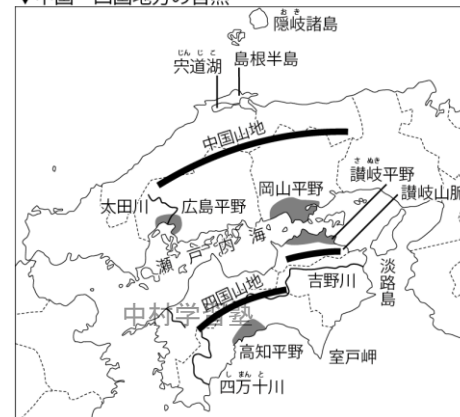
●高速道路の開通による変化…**中国自動車道**や南北をつなぐ高速道路の開通→中国山地の山間部に工業団地や流通センター→岡山県津山市の工業団地→電気機械工業や食品工業の工場が進出→**過疎化**が進んでいた中国山地や山陰にも働く場所が増える。広島県三次市など。

### 4 高速道路で広がる結びつき

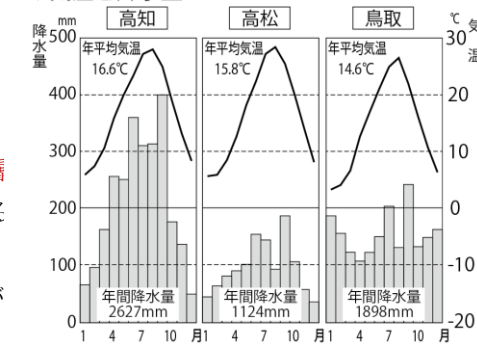
●大都市と結びつく野菜栽培…温暖な高知平野ではかつて米の**二期作**が盛ん→現在ではより高い収入を得られる野菜の**促成栽培**が中心。昔は船や鉄道で大阪に出荷→現在は長距離フェリーやトラックで高速道路を利用して東京や新潟などどの全国の市場にも出荷→他の生産地との競争→従来のなす、ピーマンだけでなく、オクラやししとうなど野菜の種類を増やす。流通センターの整備、農業を減らして安全性の高い野菜づくり→他の生産地との競争力高める◆**鳥取砂丘**で、らっきょう、すいかの栽培がさかん。

●各地から訪れる観光客…「神話の里」山陰には出雲大社など多くの文化財や史跡がある→米子自動車道、浜田自動車道などの南北を結ぶ高速道

#### ▼中国・四国地方の自然



#### ▼気温と降水量(2011年資料より)



#### ▼主な交通網



#### ▼本州と四国を結ぶ3ルート道路



路や山陰各県に整備された空港を利用して観光客が増加◆鳥根県**石見銀山**は2007年に世界遺産に◆鳥根県松山市や山口県萩市では歴史的な町並みの保存し観光に◆中国山地の「たたら製鉄」の博物館など。

## ◆ 一問一答 ◆

【中国・四国地方はどのような地方だろうか】

- 中国山地の北側の地域を何というか。 [ ]
- この地域は何という海に面しているか。 [ ]
- 中国山地と四国山地にはさまれた地域を何というか。 [ ]
- この地域は何という海に面しているか。 [ ]
- この地域は降水量が少なく、昔から何をつくって農業に利用しているか。 [ ]
- 四国山地の南側の地域を何というか。 [ ]
- この地域は何という海に面しているか。 [ ]

【交通網の発達と地域の生活の変化】

- 本州と四国を結ぶ、3つのルートの橋をまとめて何というか。 [ ]
- この3つのルートのうち神戸-鳴門間の本州-淡路島を結ぶ橋を何というか。 [ ]
- この3つのルートのうち児島-坂出間を結ぶ橋を何というか。 [ ]
- この3つのルートのうち尾道-今治間を結ぶいくつかの橋をまとめて何というか。 [ ]
- 中国地方の経済、政治の中心都市は何市か。 [ ]
- 1945年8月6日にこの都市に投下された爆弾を何というか。 [ ]
- 原爆ドーム、厳島神社は1996年に何に登録されたか。 [ ]

【海運と陸運で結びつく工業】

- 中国・四国地方の瀬戸内海沿岸に広がる工業地域名を書きなさい。 [ ]
- 岡山県倉敷市水島や山口県周南市、岩国市の臨海部には、原油を原料として石油化学製品を生産する工業群が広がる。このような工業群を何というか。 [ ]
- これらの工場では、各工場が効率よく生産できるように原料などを移送するために何で結ばれているか。 [ ]

●1983年に開通した中国山地を東西に走る高速道路を何というか。 [ ]

【高速道路で広がる結びつき】

- 温暖な高知平野ではかつて1年の間に米を2度栽培していた。このように1年に2度栽培することを何というか。 [ ]
- 現在の高知平野では温暖な気候を利用して、野菜のどのような栽培が行われているか。 [ ]
- 高知平野でつくられた野菜は、かつては船や鉄道で高地県から近い大阪に出荷されていたが、現在では輸送手段として長距離フェリーや、高速道路で何で運ぶことによって、全国に運ばれるようになったか。 [ ]
- 2007年に世界遺産に登録された鳥根県にある鉾山の遺跡を何というか。 [ ]
- 鳥取県では、砂丘地(さきゅうち)を農地開発して、らっきょう、すいかの栽培が行われている。この観光地でもある砂丘地を何というか。 [ ]

中村学習塾

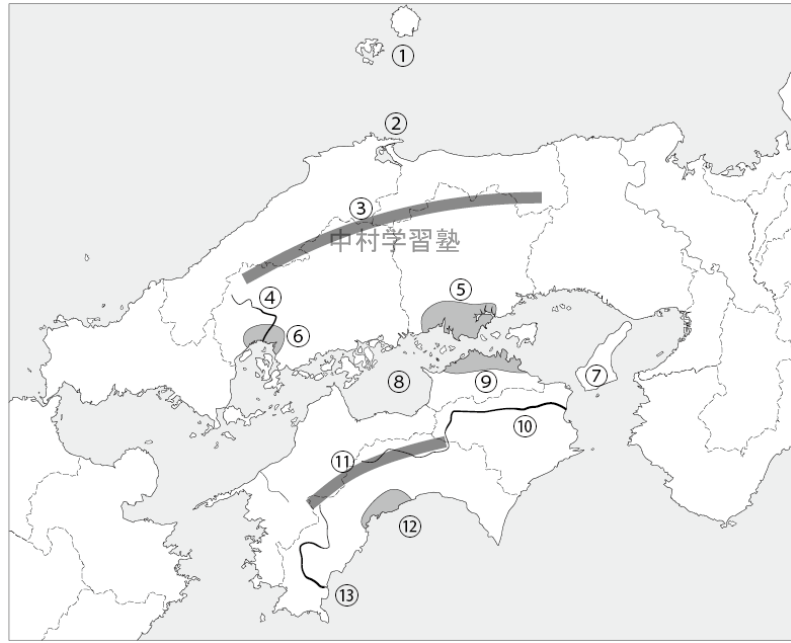
中村学習塾

中村学習塾

中村学習塾

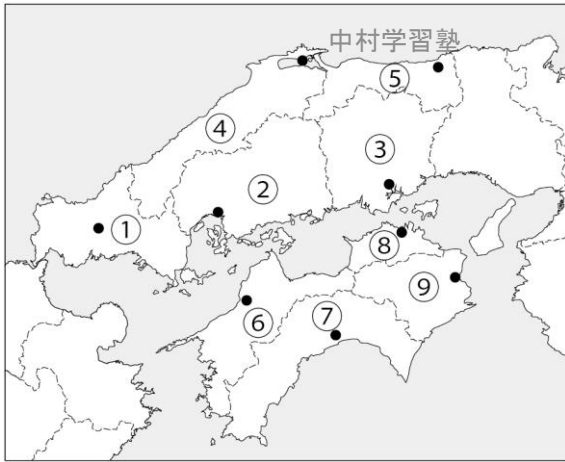
◆ 基本問題 ◆

1 中国・四国地方の自然 下の①～⑬までの地形名を書きなさい。

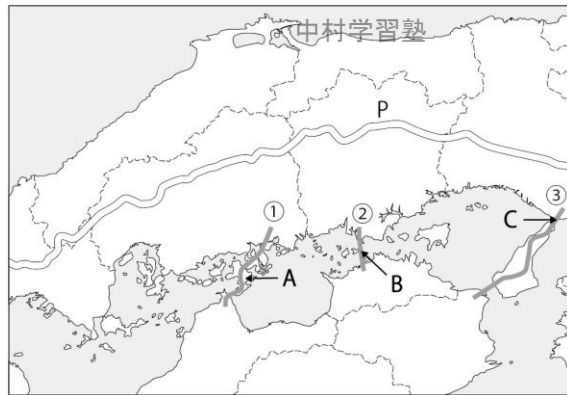


- ①[ ] (諸島名)
- ②[ ] (半島名)
- ③[ ] (山地名)
- ④[ ] (川名)
- ⑤[ 中村学習塾 ] (平野名)
- ⑥[ ] (平野名)
- ⑦[ ] (島名)
- ⑧[ ] (海名)
- ⑨[ ] (平野名)
- ⑩[ ] (川名)
- ⑪[ ] (山地名)
- ⑫[ ] (平野名)
- ⑬[ ] (川名)

2 下の①～⑨までの県名と、それぞれの●の県庁所在地の名前を書きなさい。



3 次の問いに答えなさい。



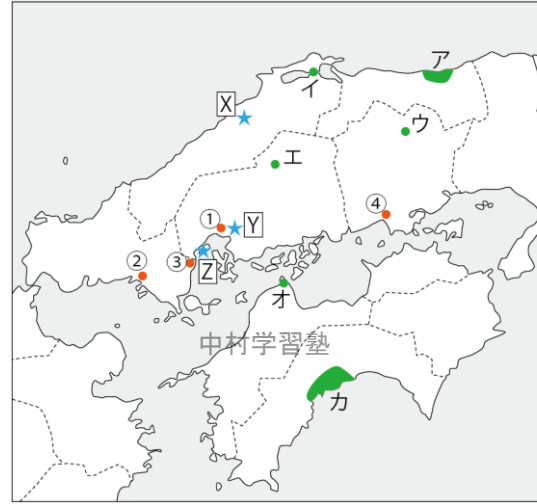
●①②③のルート名を語群から選び書きなさい。  
語群：児島-坂出ルート、神戸-鳴門ルート、尾道-今治ルート

- ①[ ] [ ]
- ②[ ] [ ]
- ③[ ] [ 中村学習塾 ]
- ④[ ] [ ]
- ⑤[ ] [ ]
- ⑥[ ] [ ]
- ⑦[ ] [ ]
- ⑧[ ] [ ]
- ⑨[ ] [ ]

●A,B,Cの橋,道の名前を書きなさい。

- A[ ] B[ ]
- C[ ]

4 次の問いに答えなさい。

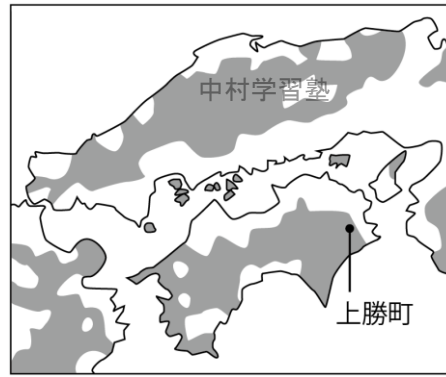


- ①の都市は中国・四国地方の経済と政治の中心都市である。市の名前を書きなさい。 [ ]
- ②～④までの都市名を語群から選び書きなさい。またその都市の特長を下のa～cから1つずつ選びなさい。  
②[ ] / [ ] ③[ ] / [ ]  
④[ ] / [ ]
- 語群：下関市 倉敷市 周南市 新居浜市 岩国市  
a:中国・四国地方で最大の石油化学コンビナートがある。  
b:山口県と広島県をまたがる石油化学コンビナートがある。  
c:古くから製油工場や大きな石油化学コンビナートがある。
- 次のa～dに適する場所を地図中のア～カから選び書け。  
a:野菜の促成栽培をおこなっている高知平野。 [ ]  
b:城下町の景観が美しい松江市。 [ ]  
c:中国自動車道などの開通で工業団地や流通センターができた津山市。 [ ]  
d:過疎化が進む地域であったが中国自動車道などが開通で工業団地ができた三次市。 [ ]  
e:農業に向かない砂丘で農地を改良して、らっきょう, すいかを栽培をしている鳥取砂丘。 [ ]  
f:国内で最大のタオル産地である今治市。 [ ]

●地図中のX,Y,Zにある世界遺産を語群から選び書きなさい。 語群：厳島神社 原爆ドーム 石見銀山

- X[ ] Y[ ] Z[ ]

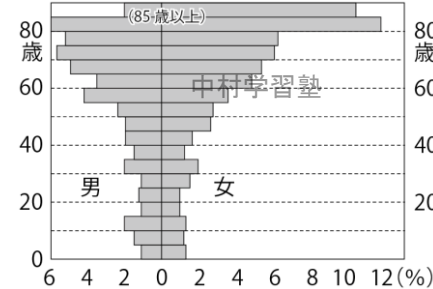
5 次の問いに答えなさい。



- 地図中の色のついた部分は人口が少なくなりすぎた地域である。人口が減少しているのはどのような地形か。次から選べ。 [ ]  
ア:山間部 イ:平野部
- 人口が減少している地域を次のア～ウから2つ選べ。 [ ] / [ ]  
ア:山陰 イ:瀬戸内 ウ:南四国
- 人口が減りすぎていく現象を何というか。 [ ]
- 下の図の徳島県上勝町の人口ピラミッドからどんなことがわかるか。 [ ]
- 次の文は、過疎がおこる原因を書いています。 [ ]にあてはまる語を語群から選び書きなさい。

第二次世界大戦から [ ] の時期に東京・大阪・名古屋などの [ ] をはじめとする都市に [ ] が就職や進学のために移動した。このために農村や山間部では、その地域の人口に占める [ ] の割合が高くなった。 語群：高齢者・高度経済成長・若い世代・三大都市圏

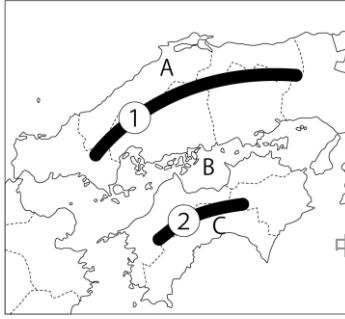
上勝町の人口構成(2010年資料より)



中村学習塾

◆ 練習問題 ◆

1 中国・四国地方はどのような地方だろうか 次の問いに答えなさい。



●地図中の①, ②の地形名を書きなさい。  
①[ ] ②[ ]

●①より北側の日本海に面するAの地域, ①と②にはさまれた瀬戸内海に面するBの地域, ②より南側の太平洋に面するCの地域をそれぞれ何というか。  
A[ ] B[ ] C[ ]

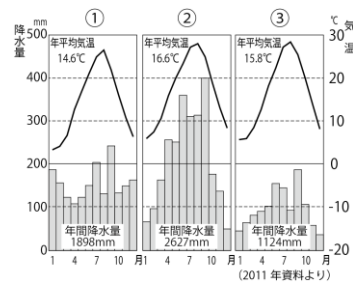
●A,B,Cの地域の特色を次のア〜ウから選びなさい。またその地域の雨温図を中村学習塾の①〜③から選びなさい。A[ / ] B[中村学習塾 C[ / ]

ア:1年を通じて降水量が少ないので,昔からため池などを利用して農業を行ってきた。

イ:温暖で夏に降水量が多い。このような気候を生かした農林水産業が行われている。

ウ:冬に多くの積雪がある。古くから大陸と交流があり,歴史のある神社や遺跡が多い。

●雨温図の①の地域の降水量が,冬になぜ多くなるのか。その理由を書きなさい。「季節風」「中国山地」という言葉を入れて書け。



[ ]  
●雨温図の③の地域の降水量が,1年を通じてなぜ少ないのか。その理由を書きなさい。「季節風」「中国山地」「四国山地」という言葉を入れて書きなさい。

中村学習塾

中村学習塾

2 交通網の発達と地域の生活の変化 次の問いに答えなさい。

中国・四国地方は,陸上では高速道路である(①)や山陽自動車道などの開通,鉄道の(②)の開通,また海上では瀬戸内海をコンテナ船などの大型船の往来が多く(③)も盛んである。そのことから,中国・四国地方は(④)と(⑤)を結ぶ重要な地域である。このような交通網の発達で,中国・四国地方を仕事や(⑥)で訪れる人が多くなり,また,(⑦)を使った貨物輸送が増えている。また,本州と四国を結ぶ橋ができた。この橋を総称して(⑧)という。この橋の完成で,移動時間が(⑨)した。その結果,人々の生活が変化した。例えば,⑧のうち岡山県と香川県を結ぶ(⑩)は他のルートとちがいで(⑪)も通っているので,2つの県をまたいで,通勤や(⑫)する人が増えた。このように大きな都市へ移動することが簡単になり,人々の移動が多くなったが,一方では,(⑬)の商店で買い物をする客が減り,売上が減少する地域も増えた。また(⑭)の利用客が減ったことから,⑭の便数が減少,廃止されたことから,橋のかかってない島の人々の生活が不便となった。

語群: 山陽新幹線 九州地方 鉄道 トラック フェリー 中国自動車道 地元 瀬戸大橋 短縮 観光 近畿地方 通学 海上輸送

●文章中の①〜⑬に,あてはまる語を上語群から選び書きなさい。ただし色のついた⑧は,選ばず書きなさい。

①[ ] ②[ ] ③[ ] ④[ ] ⑤[ ]  
⑥[ ] ⑦[ ] ⑧[ ] ⑨[ ] ⑩[ ]  
⑪[ ] ⑫[ ] ⑬[ ] ⑭[ ]

中村学習塾

中村学習塾

3 海運と陸運で結びつく工業 次の問いに答えなさい。

瀬戸内海沿岸では,雨が少なく晴れの日が多いことから,古くは(①)業や,江戸時代に綿花の栽培がさかんであったことから(②)業や造船業がさかんだった。1960〜70年代にかけて(③)や遠浅の海を(④)た広い工業用地に,近畿地方の(⑤)などからの工場の移転が進み臨海型の工業地域ができた。この工業地域を(⑥)という。

(a)この工業地域では海外から原料や燃料を大量に輸入したり,工業製品を輸出したりしやすいために,原料や製品の重い(⑦)や(⑧)などが発達した。岡山県の倉敷市の(⑨)や山口県の周南市,岩国市などでは関連する工場が(⑩)でつながっていて,効率よく生産が行われている。このような⑩でつながれている石油化学関連の工場群を(⑪)という。この地域で生産される鉄鋼や石油化学製品は,ほかの工業の素材ともなるので国内の他の工業地域や海外にも輸出されている。中国地方では高速道路の開通で交通の便がよくなったことから(⑫)のいくつかの地域では,工業団地や流通学習塾がつくられた。岡山県の津山市では,中国自動車道を使うと(⑬)まで約2時間で,部品や製品を運ぶことができるので,(⑭)や(⑮)の工場がつくられた。

語群: 鉄鋼業 中国山地 塩田 食品工業 製塩 瀬戸内工業地域 電気機械工業 コンビナート 大阪 綿織物工 水島 埋め立て 石油化学工業 阪神工業地帯 パイプライン

●文章中の①〜⑬に,あてはまる語を上語群から選び書きなさい。

①[ ] ②[ ] ③[ ] ④[ ] ⑤[ ]  
⑥[ ] ⑦[ ] ⑧[ ] ⑨[ ] ⑩[ ]  
⑪[ ] ⑫[ ] ⑬[ ] ⑭[ ] ⑮[ ]

●⑦や⑧の工業をあわせて何工業というか。 [ ]

●下線部(a)について,この工業地域で,原料や工場製品を輸出入しやすい理由を書きなさい。

[ ]

4 高速道路で広がる結びつき 次の問いに答えなさい。

高知平野では,かつて温暖な気候を利用して米の(①)がさかんであった。しかし現在ではより多くの収入を得ることが出来る野菜の(②)が農業の中心になっている。昭和の初めごろは,収穫した野菜を(③)や(④)で大阪の市場に出荷していたが,その後,輸送手段が長距離フェリーや(⑤)に変わり,より遠くの東京や新潟などの全国の市場に出荷することができるようになった。ところが全国のほかの生産地との競争が激しくなったため,これまでのなすや(⑥)だけでなく,オクラやしとうなども加えて栽培する野菜の種類を増したり,効率よく出荷するために市場の情報を集めたりしている。「(⑦)」といわれる山陰には,(⑧)をはじめ多くの文化財や史跡がある。米子自動車道や浜田自動車道など中国地方を(⑨)方向に結ぶ高速道路の開通や空港を利用して観光客が増えている。2007年に世界遺産に登録された島根県の(⑩)も注目を集め,県外から多くの観光客が訪れるようになった。またかつて城下町だった島根県(⑪)や山口県(⑫)では歴史的な町なみを保全して観光に生かしている。鳥取県の(⑬)では,砂丘地の農業の取り組みが行われ,今ではらっきょうや(⑭)や栽培がさかんである。

語群: 促成栽培 トラック 萩市 すいか 二毛作 出雲大社 鉄道 松江市 南北 鳥取砂丘 ピーマン 石見銀山 船 神話の里

●文章中の①〜⑬に,あてはまる語を上語群から選び書きなさい。

①[ ] ②[ ] ③[ ] ④[ ] ⑤[ ]  
⑥[ ] ⑦[ ] ⑧[ ] ⑨[ ] ⑩[ ]  
⑪[ ] ⑫[ ] ⑬[ ] ⑭[ ]

●⑤で輸送できるようになったことは全国で何の整備が進んだからか。 [ ]

中村学習塾

中村学習塾

◆ 一問一答 ◆

山陰 日本海 瀬戸内 瀬戸内海 ため池 南四国 太平洋 本州四国連絡橋 明石海峡大橋 瀬戸大橋  
しまなみ海道 広島市 原子爆弾 世界(文化)遺産 瀬戸内工業地域 石油化学コンビナート パイプライン  
中国自動車道 二毛作 促成栽培 トラック 石見銀山 鳥取砂丘

◆ 基本問題 ◆

1

①隠岐諸島②島根半島③中国山地④太田川⑤岡山平野⑥広島平野⑦淡路島⑧瀬戸内海⑨讃岐平野  
⑩吉野川⑪試行山地⑫高知平野⑬四万十川

中村学習塾

中村学習塾

中村学習塾

中村学習塾

2

①山口県・山口市②広島県・広島市③岡山県・岡山市④島根県・松江市⑤鳥取県・鳥取市⑥愛媛県・松山市  
⑦高知県・高知市⑧香川県・高松市⑨徳島県・徳島市

3

①尾道-今治ルート②児島-坂出ルート③神戸-鳴門ルート Aしまなみ海道 B瀬戸大橋 C明石海峡大橋

4

●広島市●②周南市/c③岩国市/b④倉敷市/a●aカbイcウdエeアfオ●x石見銀山y原爆ドームz厳島神社

5

●ア●アウ●過疎化●高齢者の人口割合が高い●高度経済成長・三大都市圏・若い世代・高齢者

◆ 練習問題 ◆

1

●①中国山地②四国山地●A山陰B瀬戸内C南四国●Aウ/①Bア/③Cイ/②  
●冬に日本海からの季節風が中国山地にあたり雲ができるから。  
●季節風が中国山地, 四国山地を越えてくるので空気が乾燥していて雲ができにくいから。

中村学習塾

中村学習塾

中村学習塾

中村学習塾

2

①中国自動車道②山陽新幹線③海上運送④⑤近畿地方・九州地方⑥観光⑦トラック⑧本州四国連絡橋  
⑨短縮⑩瀬戸大橋⑪鉄道⑫通学⑬地元⑭フェリー

3

①製塩②綿織物工③塩田④埋め立て⑤阪神工業地帯⑥瀬戸内工業地域⑦⑧鉄鋼業・石油化学工業  
⑨水島⑩パイプライン⑪コンビナート⑫中国山地⑬大阪⑭⑮食品工業・電気機械工業  
●重化学工業●海に面しているから港で, 大型の専用船で運ぶことができるから。

4

①二毛作②促成栽培③④鉄道・船⑤トラック⑥ピーマン⑦神話の里⑧出雲大社⑨南北⑩石見銀山⑪松江市  
⑫萩市⑬鳥取砂丘⑭すいか  
●高速道路

中村学習塾

中村学習塾

中村学習塾

中村学習塾