

8 オセアニア州

1 オセアニアの自然環境

●オセアニアとは…オーストラリア、ニュージーランド、太平洋の島々をまとめた地域。ミクロネシア、メラネシア、ポリネシアの3つに分かれる。

●オセアニアの自然環境…◆オーストラリア大陸の内部は降水量がほとんどなく草原や砂漠が広がる。人口のほとんどは、比較的降水量の多く農業のさかんな南東部、南西部に集中。◆ニュージーランドの気候は、オーストラリア南東部と同じだが、火山や氷河ある。◆太平洋の島々は、降水量の多い熱帯。火山島やサンゴ礁があり、美しい観光地。学習塾耕地は不十分。サンゴ礁が堆積してできたツバルなどの島では、地球温暖化による海面上昇で水没が心配さる。

2 自然環境の影響が大きいオセアニアの産業

●オーストラリアの農業…小麦の栽培と牛と羊の放牧。牛は牛肉用、羊は羊毛用。内陸部は降水量がすくなく、北部は土の栄養が少なくて牧草が育たず家畜の飼育は少ない。◆北東部、南東部、南西部で、牧草がよく育つから、牛や羊の放牧盛ん。◆南東部、南西部では、小麦の栽培と牛や羊の飼育の組み合わせで、代表的な農業地帯。◆小麦は、南半球と北半球の季節が逆であることを利用して、北半球の国々で生産が少ないときに世界に輸出。

●ニュージーランドの農業…適度な降水量で、牧草がよく育つ→牛や羊の飼育さかん→北島では、牛は酪農用の乳牛、羊は羊肉用が中心→南島では羊は羊毛用が中心。偏西風がサザンアルプス山脈にあたり、西側で雨が多い。

●オーストラリアの鉱産資源…鉄鉱石、石炭、ボーキサイト(アルミニウムの原料)などの鉱産資源が豊富。鉄鉱石は北西部、石炭は北東部、南東部で採掘され、地面を直接掘り下げて、露天掘りという方法で、大規模で効率のよい生産。◆鉄鉱石、石炭は、日本、中国、韓国などに輸出◆原油、天然ガスは、パイプラインで大都市に送られて、そこから日本など海外に輸出。日本はオーストラリアから、鉄鉱石、石炭、天然ガスを多く輸入。

3 移民と多文化社会

●移民の国…オーストラリアには先住民のアボリジニーが住む→18世紀末にイギリスからの移民が始まる→イギリス系の人々が中心で開拓と国づくり→第二次世界大戦後からは、ほかの地域からの移民を受け入れる→イギリス以外のヨーロッパの国々の移民と、現在ではアジアからの移民が増加。

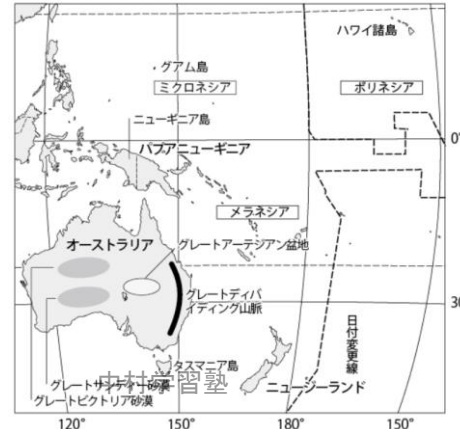
●先住民との共存…アボリジニーなどの先住民は狩猟・採集による生活スタイルから、他の国民と同じ生活スタイルに変化→まだ、社会的・経済的格差が残る→解消するための努力が続けられている。

●多文化社会…さまざまな文化をたがいに尊重しあう多文化社会へ大きく変化公用語は英語だったが、その他の言語によるテレビ放送や、日本語などの外国語教育などを学校でおこない異文化理解の取り組みが進められている。

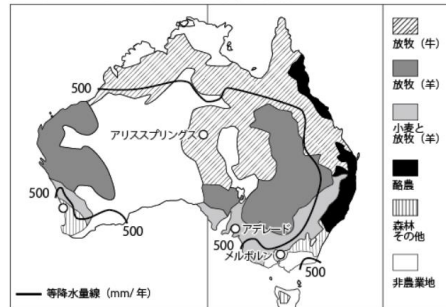
4 広がるオゾンホール

地球のまわりのオゾン層が、太陽からの有害な紫外線を弱める→紫外線にあたると皮膚がんなどの原因となる→エアコンやスプレー缶で使用されてきたフロンがオゾン層を破壊→北極や南極の上空では、オゾン層がうすくなってきている→現在はフロンの使用は禁止→南極に近いオーストラリアでは、長そでの服や帽子の着用で紫外線の対策がされる。

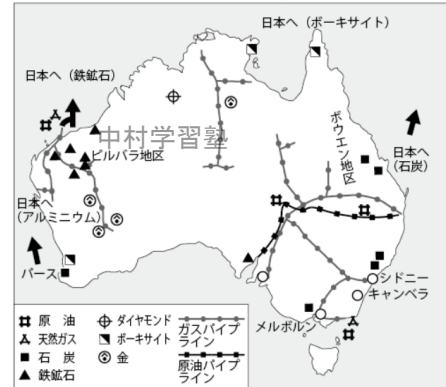
▼オセアニア州



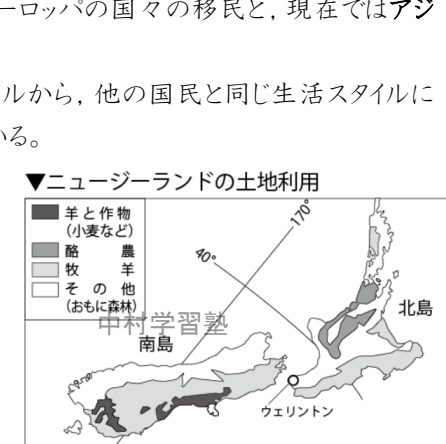
▼オーストラリアの農業地域



▼オーストラリアの鉱産資源



▼ニュージーランドの土地利用



◆ 一問一答 ◆

【オセアニアの自然環境】

- 「小さい島々」という意味の赤道より北、日付変更線より西の地域を何というか。 []
- 「黒い島々」という意味の赤道より南、日付変更線より西の地域を何というか。 []
- 「多くの島々」という意味の赤道の南北、日付変更線より東、ニュージーランドやハワイ諸島を含めて何というか。 []

- これらの太平洋の島々は、何という気候帯に属しているか。 []
- 太平洋の島々は、火山によってできた島と、()が長い年月をかけて堆積し、やがて海面から出てできた島がある。 []

中村学習塾

中村学習塾

- 上の問いでできた島々(ツバルなど)は、海面からの高さが低いために、地球の環境問題の()で、水没が心配されている。 []

- オーストラリア大陸の内陸部では、降水量がきわめて少ないため、草原や何が広がっているか。 []

【自然環境の影響が大きいオセアニアの産業】

- オーストラリア大陸の北東部で、おもに食肉用として飼育されている家畜は何か。 []
- オーストラリア大陸の南東部・南西部で、おもに毛を利用するために飼育されている家畜は何か。 []
- これらの家畜は、どのように飼育されているか。 []
- オーストラリアは、なんの農作物の栽培がさかんであるか。 []
- オーストラリア大陸のおもに北西部で産出される鉱産資源は何か。 []
- オーストラリア大陸のおもに北東部・南東部で産出される鉱産資源は何か。 []
- これらの鉱産資源は、大規模に地面を直接掘り下げて採掘される。この方法を何というか。 []

【移民と多文化社会】

- オーストラリアには、何という先住民が住んでいたか。 []
- オーストラリアには、18世紀末から第二次世界大戦直後まで、どこの国の人々が多く移住してきたか。 []

- 第二次世界大戦後からは、イギリス以外のヨーロッパの他の国からの移民が増加した。現在では何州からの移民が増加しているか。 []

- さまざまな文化を尊重し合う社会を何というか。 []
- オーストラリアの公用語は、何ですか。 []

- オーストラリアでは、英語以外のさまざまな言語によるテレビ放送や、学校では他国の言語の教育がおこなわれるなどして、多文化に配慮した取り組みが行われている。このような取り組みを何というか。 []

- 北極や南極の上空では、地球のまわりのオゾン層が、こわされて穴があいたようになっているところがある。これらを何というか。 []

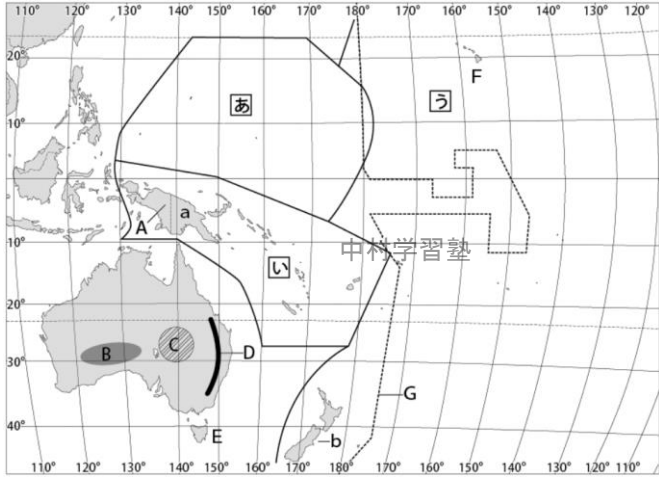
- オゾン層を破壊している代表的な化学物質で、以前は、エアコンなどによく使われていたが、今は使用を禁止されている化学物質を書きなさい。 []

中村学習塾

中村学習塾

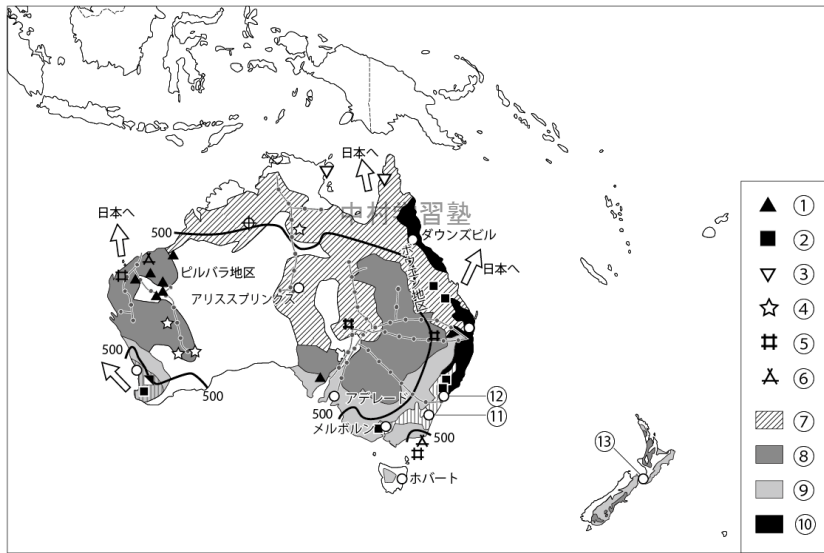
基本問題

1 オセアニアの自然 次の問いに答えなさい。



- あ, い, うの地域名を書きなさい。
あ[] い[]
う[]
- A～Fまでの地形名を書きなさい。
A[] 島] B[] 砂漠]
C[] 盆地] D[] 山脈]
E[] 島] F[] 諸島]
- Gの線の名前を書きなさい。
[]
- a, bの国の名前を書きなさい。
a[] b[]

2 オセアニアの産業 次の問いに答えなさい。

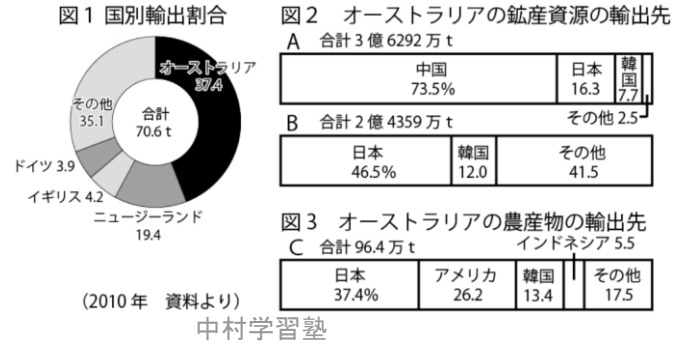


- ①～⑥の鉱産資源を書きなさい。
①[]
②[]
③[]
④[]
⑤[]
⑥[]
- ⑦～⑩の農産物を語群から選べ。
⑦[]
⑧[]
⑨[]
⑩[]
- 語群: 酪農 牛の放牧
小麦と羊の放牧 羊の放牧

- ⑪から⑬の都市名を書きなさい。
⑪[]
⑫[]
⑬[]

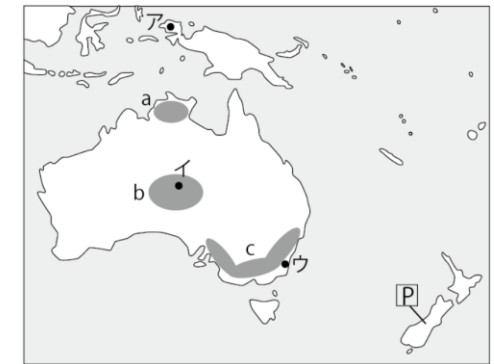
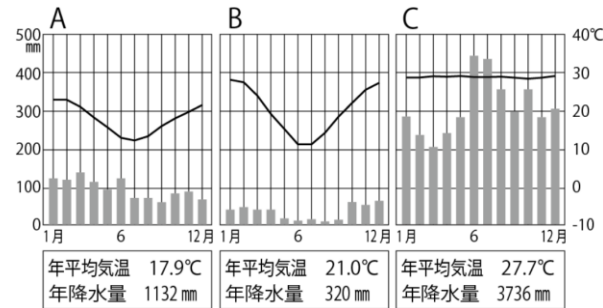
- オーストラリアの首都を書きなさい。 []
- ニュージーランドの首都を書きなさい。 []

3 オセアニアの産業 次の問いに答えなさい。



- 図1は国別輸出割合であるが、何の輸出品であるか。次から選びなさい。 []
ア:羊毛 イ:牛肉 ウ:小麦 エ:大豆
- 図2のAの鉱産資源は、地図中の▲の地域で産出される。Aの鉱産資源を書きなさい。 []
- 図2のBの鉱産資源は、地図中の■の地域で産出される。Bの鉱産資源を書きなさい。 []
- 鉱産資源A, Bは、どのような方法で採掘されているか。採掘のやり方を書きなさい。 []
- このやり方では、どのような利点があるか。書きなさい。 []
- 地図中の▽の鉱産資源を書きなさい。 []
- 地図中のVの地域で産出するエネルギー資源を書きなさい。 []
- このエネルギー資源は、大都市へ何を使って運ばれて、海外へ輸出されているか。 []
- 図3の農産物は何か。次から選びなさい。 []
ア:羊肉 イ:牛肉 ウ:小麦 エ:大豆
- 地図中のP, Qで行われている農業を、次から、それぞれ選びなさい。 P[] Q[]
ア:牛の放牧 イ:羊の放牧 ウ:酪農 エ:小麦と羊

4 オセアニアの自然と産業 次の問いに答えなさい。



- 雨温図A, B, Cは、地図中のア, イ, ウのいずれかである。それぞれ選べ。 A[] B[] C[]
- BとCの気候帯を書きなさい。 B[] C[]
- オーストラリアで、小麦の生産が盛んな地域をa, b, cから選びなさい。 []
- Pの国名を書きなさい。 []
- Pの国で、牛とともに、多く飼育されている人口より多いと言われる家畜は何ですか。 []

◆ 練習問題 ◆

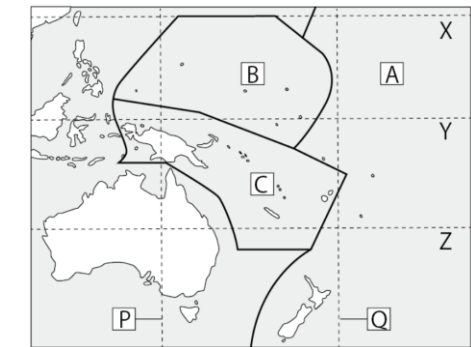
1 オセアニアの自然 次の問いに答えなさい。

オセアニアのニュージーランドと太平洋の島々は、⑦ ミクロネシア、メラネシア、ポリネシアの3つの地域に分けられる。オーストラリア大陸の(①)部では、降水量がきわめて少なく、草原や(②)が広がっている。このため人口のほとんどは、(③)部や(④)部に集中している。ニュージーランドの気候は、オーストラリアの南東部と似ているが、(⑤)や(⑥)があるところが大きく違う。太平洋の島々の気候帯は、1年中、降水量の多い(⑦)です。太平洋には、さまざまな火山島や(⑧)でできた島々がある。美しい風景で、多くの(⑨)が訪れる。⑧でできた島々は、(⑩)や(⑪)は十分ではなく、また、④ 海面の上昇で(⑫)が心配されている。

● 文章中の①～⑫に、あてはまる語を下の語群から選び書きなさい。

- ①[] ②[] ③[] ④[] ⑤[]
 ⑥[] ⑦[] ⑧[] ⑨[] ⑩[]
 ⑪[] ⑫[]

南西・内陸・南東・熱帯・観光客・氷河・水没・砂漠・火山・水・サンゴ礁・耕地



中村学習塾

● 文中の下線部⑦の地域を地図中のA, B, Cからそれぞれ選べ。

ミクロネシア[] メラネシア[] ポリネシア[]

● 赤道の位置を地図中のX, Y, Zから選べ。 []

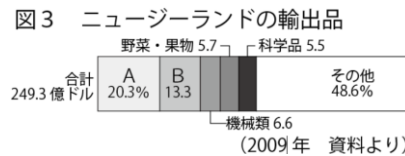
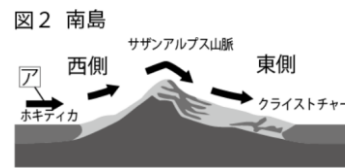
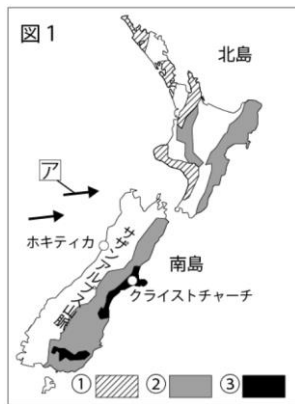
● 地図中のPの線は東経140度の経線である。この線を北に行くとなにかがあるか。次から選びなさい。 []

ア: 沖縄 イ: ペキン ウ: 東京 エ: ハワイ

● 地図中のQの線は、日付変更線の基準となっている経線である。この線の経度を書きなさい。 []

● 文中の下線部④について、なぜ海面が上昇すると心配されているのか。その理由を書きなさい。 中村学習塾

2 ニュージーランドの自然と産業 次の問いに答えなさい。



● 図1, 図2のAは、1年中、西から東へ吹いている風である。この風を何というか。 []

● 図2の南島では、西側、東側で、どちらが降水量が多いか。 []

● 図1の①, ②, ③にあてはまるものを次から選べ。①[] ②[] ③[]
 ア: 羊の放牧 イ: 羊と小麦などの栽培 ウ: 酪農

● 図3のA, Bにあてはまるものを次から選べ。 中村学習塾] B[]
 ア: 石炭 イ: 肉類 ウ: 小麦 エ: 乳製品

● 図2のAの風によって、南島では、西側、東側のどちらかで降水量が多くなる。そうなる理由を書きなさい。 []

3 オーストラリアの農業 次の問いに答えなさい。

オーストラリアでは、農作物では(①)の栽培と、家畜では(②)と(③)の飼育がさかんです。②はおもに(④)で、③はおもに(⑤)である。内陸部では降水量が(⑥)、北部では降水量は多いものの(⑦)の養分が少ないために牧草が育ちにくく家畜は少ない。多くの家畜は、牧草がよく育つ(⑧)、(⑨)、(⑩)の地域で飼育される。とくに⑨と⑩の地域では、⑦ 小麦などの栽培と組み合わせて、牛や羊が飼育されて、代表的な農業地帯となっている。

● 文章中の①～⑩に、あてはまる語を下の語群から選び書きなさい。

- ①[] ②[] ③[] ④[] ⑤[]
 ⑥[] ⑦[] ⑧[] ⑨[] ⑩[]

牛・羊・小麦・土・南西部・南東部・北東部・少なく・羊毛用・肉牛用

● 下線部⑦の小麦の栽培について、オーストラリアは、日本をはじめ世界各国に輸出している。オーストラリアで小麦を栽培するにあたって、どのような利点があるか。「北半球」「季節」という語をつかって書きなさい。 []

4 オーストラリアの鉱産資源 次の問いに答えなさい。

オーストラリアは、(①)、(②)、(③)などの鉱産資源が豊富です。鉄鉱石はおもに(④)の地域で、石炭はおもに(⑤)、(⑥)の地域で採掘される。これらの鉱山や炭鉱では、地面を直接けずっていく(⑦)という方法で、大規模に効率よく採掘している。採掘された鉄鉱石や石炭は(⑧)で港に運ばれ、(⑨)、(⑩)、(⑪)などのアジアの国々に輸出される。また、エネルギー資源である(⑫)、(⑬)も重要な鉱産資源で、油田やガス田から(⑭)で大都市に送られる。そこから海外に輸出もされる。日本はオーストラリアから、鉱産資源では、おもに(⑮)、(⑯)、(⑰)を輸入している。

● 文章中の①～⑰に、あてはまる語を下の語群から選び書きなさい。ただし、⑦は、選ばずに書きなさい。

- ①[] ②[] ③[] ④[] ⑤[]
 ⑥[] ⑦[] ⑧[] ⑨[] ⑩[]
 ⑪[] ⑫[] ⑬[] ⑭[] ⑮[]
 ⑯[] ⑰[]

天然ガス・天然ガス・日本・鉄道・北西部・中国・北東部・ボーキサイト・南東部・韓国

パイプライン・原油・鉄鉱石・鉄鉱石・石炭・石炭

● ボーキサイトは、何の金属の原料であるか。書きなさい。 []

5 移民と多文化社会 次の問いに答えなさい。

オーストラリアには、もともと(①)などの先住民が住んでいた。18世紀末に(②)からの移民がはじまり、②系の人々が中心となって国づくりが進んだ。第二次世界大戦後から②以外の(③)の国々から移民が増加した。さらに、その後は、(④)からの移民が増えている。②系以外のさまざまな国の住民が増えたことで、食生活の変化をはじめとして、お互いの文化をともに尊重しあう(⑤)へと大きく変化した。公用語は(⑥)だけであるが、それ以外の言語によるテレビ放送や、学校では外国語教育などで、(⑦)のための取り組みが進められている。

● 文章中の①～⑦に、あてはまる語を下の語群から選び書きなさい。ただし、⑤は、選ばずに書きなさい。

- ①[] ②[] ③[] ④[] ⑤[]
 ⑥[] ⑦[]

英語 中村学習塾・アボリジニー・ヨーロッパ・異文化理解 中村学習塾

● 北極や南極の上空では、オゾン層がうすくなり穴があいた形となっている。これを何というか。 []

● この層の破壊の原因は、エアコンなどに使われていた何というガスであるか。書きなさい。 []

● 南極に近いオーストラリアでは、紫外線対策として、どのようなことを呼びかけているか。書きなさい。 []

◆ 一問一答 ◆

ミクロネシア メラネシア ポリネシア 熱帯 サンゴ礁 地球温暖化 砂漠 牛 羊 放牧 小麦 鉄鉱石 石炭 露天掘り アボリジニー イギリス アジア(州) 多文化社会 英語 異文化理解 オゾンホール フロン(ガス)

◆ 基本問題 ◆

1

あ ミクロネシア い メラネシア う ポリネシア

A ニューギニア(島) B グレートピクトリア(砂漠) C グレートアーテジアン(盆地) D グレートディバイディング(山脈)

E タスマニア(島) F ハワイ(諸島) G 日割変更線 a パプアニューギニア b ニュージーランド

2

①鉄鉱石 ②石炭 ③ボーキサイト ④金 ⑤原油(石油) ⑥天然ガス

⑦牛の放牧 ⑧羊の放牧 ⑨小麦と羊の放牧 ⑩酪農 ⑪キャンベラ ⑫シドニー ⑬ウェリントン

キャンベラ ウェリントン

3

A 鉄鉱石 石炭 露天掘り 鉱産資源を、安全に安い費用で大量に掘り出すことが出来る。 金 原油(石油)

パイプライン イ P イ Q ウ

4

A ウ B イ C ア(ウ:シドニーは温帯,イ:アリススプリングスは乾燥帯で砂漠,ア:マルキョク(パラオ)で熱帯で1年中多雨

高温) 乾燥帯 熱帯 c ニュージーランド 羊

◆ 練習問題 ◆

1

①内陸②砂漠③④南西・南東⑤⑥火山・氷河⑦熱帯⑧サンゴ礁⑨観光客⑩⑪水・耕地⑫水没

ミクロネシア B メラネシア C ポリネシア A 赤道…Y ウ 180度(東経180度,西経180度も正解)(180度は,東経でも西経でも,どちらから数えても同じ位置であるから,経度180度=東経180度=西経180度である) 地球温暖化で,北極や南極の氷がとけるから。

2

偏西風 西側 ①ウ ②ア ③イ Aエ Bイ 偏西風がサザンアルプス山脈に当たって,雲ができて雨が降るから。

3

①小麦 ②③牛・羊 ④⑤肉牛用・羊毛用(牛が肉牛用,羊が羊毛用で一致のこと) ⑥少なく ⑦土

⑧北東部 ⑨⑩南西部。南東部(小麦の栽培と羊,牛の放牧は,南西部と南東部。北東部は牛の放牧。)

北半球と季節が逆であるから,他の国で生産が少ないときに輸出ができること。

4

①②③鉄鉱石・石炭・ボーキサイト ④北西部 ⑤⑥北東部・南東部 ⑦露天掘り ⑧鉄道

⑨⑩⑪日本・中国・韓国 ⑫⑬原油・天然ガス ⑭パイプライン ⑮⑯⑰鉄鉱石・石炭・天然ガス

アルミニウム

5

①アボリジニー ②イギリス ③ヨーロッパ ④アジア ⑤多文化社会 ⑥英語 ⑦異文化理解

オゾンホール フロン 外出のときは,長そでの服,帽子の着用を呼びかけている。

中村学習塾

中村学習塾

中村学習塾

中村学習塾

中村学習塾

中村学習塾