

6 北アメリカ州

1 北アメリカの自然環境

●山地と低地…西側にけわしいロッキー山脈、東側になだらかなアパラチア山脈。2つの山脈の間に広大な草原グレートプレーンズとプレーリー。五大湖の南に中央平原とミシシッピ川。カナダは日本の約26倍の面積、アメリカ合衆国は約25倍。

●熱帯から寒帯まで…アラスカとカナダはほとんどの地域が亜寒帯(冷帯)か寒帯。フロリダ半島や西インド諸島は熱帯→リゾート地。西経100度付近を境に東側は雨がが多く、西側は乾燥して中村学習塾もある。

2 多くの民族がくらす北アメリカ

●歩み…もともと先住民のネイティブアメリカンが住む→17世紀初め、イギリス、フランスが大西洋沿岸に植民地をつくる→ヨーロッパから移民多数→西部へ向けて開拓を進める→先住民は追いやられて人口減少◆南部に綿花畑→アフリカから多くの奴隷がつれてこられる→子孫がジャズなどの音楽◆日本や中国からも移民→中国人街など◆最近ではヒスパニック(メキシコや南アメリカからの移民、スペイン語を話す)が増加。

●アメリカ合衆国、カナダは多くの民族が集まってできた国…カナダは公用語:英語とフランス語、互いの文化を尊重。

3 世界に影響を与える生活と文化

●自動車が出かせない生活…郊外や高速道路沿いの広い駐車場をもつ巨大なショッピングセンターなどに車で、週に1度、買い物。

●世界中に広がる文化…ジーンズ、Tシャツ、ハンバーガー、コーラ、コンピュータ関連製品など→世界中に企業進出→多国籍企業という→世界に大きな影響力をもつ。

4 世界をリードする大規模な産業

●自然環境に合わせた農業…農作物に合った気候や土壌で農業(適地適作)→自然環境に合った農作物を効率よく大量生産して輸出。西経100度から西側の降水量の少ない地域で放牧、東側の降水量の多い地域で小麦・とうもろこし・大豆・綿花の栽培。◆プレーリーからグレートプレーンズにかけて世界有数の小麦の産地。大型機械の利用。農家はインターネットから作物の価格などの情報収集→効率のよい作付け(さくづけ)や出荷を行う。

●世界の食料庫…アメリカ合衆国は世界各国に食料を輸出しているので「世界の食料庫」→不作や値上がりは世界に影響。◆穀物メジャー…穀物の売買だけでなく、種、農薬の開発、気象情報の提供、農作物の輸送を行う大企業。

●工業の歩み…五大湖周辺は石炭・鉄鉱石などの鉱産資源豊か→19世紀にピッツバーグで鉄鋼の生産→その鉄鋼を材料に、20世紀にデトロイトで自動車の生産→「流れ作業」で大量生産→世界の工業国へ。◆20世紀後半、鉄鋼や自動車産業は、日本やアジア諸国で発展→アメリカ合衆国の生産下がる→先端技術産業に力をいれる(航空機、宇宙産業、コンピュータ関連産業)

◆航空機産業(シアトル、ロサンゼルス)、自動車企業(五大湖周辺)、自動車は機械などの工場進出(メキシコの北部のアメリカ合衆国との国境沿い)

●世界をリードする先端技術産業…1970年代以降、北緯37度より南のサンベルトと呼ばれる地域で工業発達。温暖な気候、安い土地、豊富な労働力、安い賃金などが理由で。◆サンフランシスコ近郊のシリコンバレー…コンピュータ関連産業の中心地。先端技術を研究する大学、研究機関などがあり、世界中から研究者が集まり、高度な技術開発が進められる。また、IC(集積回路)の工場、IT産業の企業が集まり、ソフトウェアの開発などで世界をリードしている。

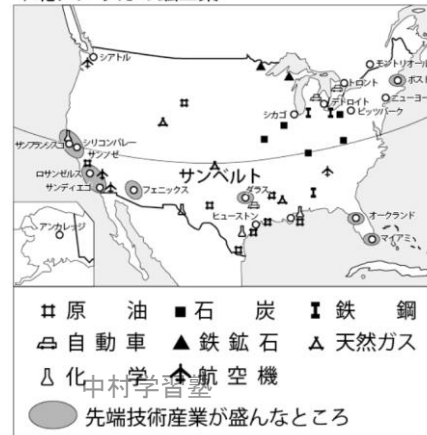
▼北アメリカの地形



▼アメリカ・カナダの農業地帯



▼北アメリカの鉱工業



◆ 一問一答 ◆

【北アメリカの自然】

●ロッキー山脈の東側のカナダ南部からテキサス州にかけて長くのびる降水量の少ない草原を何というか。 []

●その平原の東側に平行して南北にのびる草原で、降水量が多めの草原を何というか。 []

●五大湖の南側に流れる北アメリカ大陸の最長の川を何というか。 []

●その川の流れる五大湖の南側に広がる平原を何というか。 []

【多くの民族がくらす北アメリカ】

●北アメリカにもともと住んでいた先住民を何というか。 []

●17世紀初めから、イギリス、フランスなどのヨーロッパの国々から北アメリカに人々が移り住んできた。このような人々を何というか。 []

●最近では、スペイン語を話す国々のメキシコや南アメリカから移り住んでくることが多い。これらの人々を何というか。 []

【世界に影響を与える生活と文化】

●高速道路沿いなどに大きなショッピングセンターがあり、アメリカの人々は週に一度くらいで買い物に出かける。アメリカのくらしで欠かせない乗り物は何か。 []

●ハンバーガーチェーンなどの世界中に進出している企業を何というか。 []

【自然環境に合わせた農業】

●西経100度より西側の降水量の少ない地域でおもに行われている農業は何か。 []

●プレーリーからグレートプレーンズにかけて、世界有数の何の栽培地域か。 []

●アメリカは、小麦・とうもろこし・大豆などが世界最大の輸出国なので、何と呼ばれるか。 []

●世界中の穀物の流通を支配して、世界の農作物の価格などに大きな影響力をもつ企業を何というか。 []

【世界をリードする工業】

●石炭や鉄鉱石などの鉱産資源にめぐまれ、またアメリカ合衆国で最初に工業が発展した地域は何という湖の周辺か。 []

●19世紀に、この周辺のピッツバーグでは、何の生産が行われるようになったか。 []

●20世紀には、この金属を材料にして、何の生産が始まったか、また都市名を書きなさい。 [/]

●この生産工場では、効率よく大量に製品をつくるしくみが始まった。この作業を何というか。 []

●航空機、宇宙産業、コンピュータ機器など、最も進んだ技術をともなう産業を何というか。 []

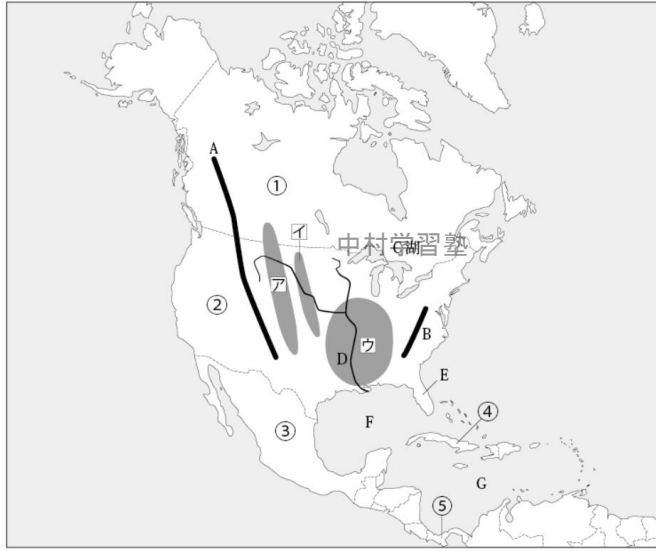
●1970年代以降、北緯37度以南の温暖で土地が安く、労働力も豊富で賃金も安い地域で工業が発展した。この地域を何というか。 []

●サンフランシスコ近郊にある世界最大のコンピュータ関連企業の集まった地域を何というか。 []

●西部のシアトルやロサンゼルスでは、何をつくる産業が盛んか。 []

◆ 基本問題 ◆

1 北アメリカの自然 次の問いに答えなさい。

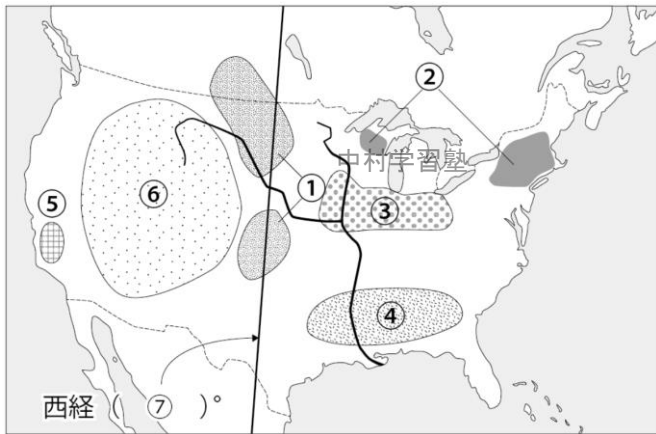


- A～G までの地形名を書きなさい。
 A[山脈] B[山脈]
 C[湖] D[川]
 E[半島] F[湾]
 G[海]

- ア～ウの平原名を書きなさい。
 ア[]
 イ[]
 ウ[]

- ①～⑤の国名を書きなさい。
 ①[] ②[]
 ③[] ④[]
 ⑤[]

2 北アメリカの農業 次の問いに答えなさい。

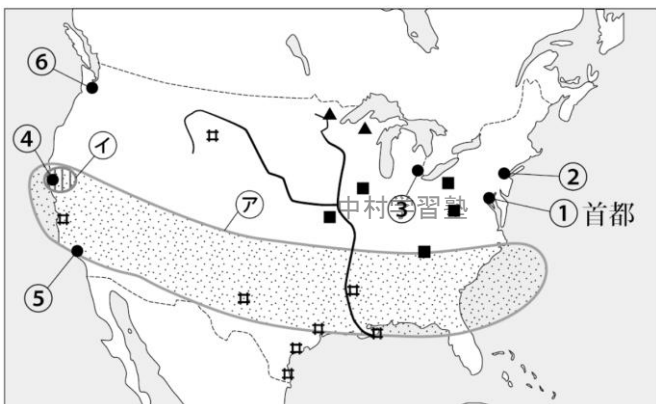


- ①～⑥にあてはまる語を下から選び書きなさい。
 ⑦は数値を書きなさい。

- ①[] ②[]
 ③[] ④[]
 ⑤[] ⑥[]
 ⑦[]

- 小麦地帯 地中海式農業 放牧 酪農
 綿花地帯 とうもろこし地帯

3 北アメリカの工業 次の問いに答えなさい。



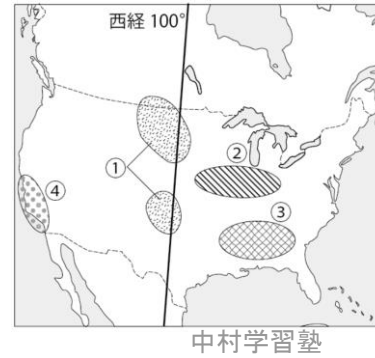
- 地図中の▲, ■, #の鉱産資源名を下から選び書きなさい。

- ▲[] ■[]
 #[]
 原油 石炭 鉄鉱石

- ①～⑥までの都市名を下から選び書きなさい。
 ①[] ②[]
 ③[] ④[]
 ⑤[] ⑥[]
 デトロイト ワシントン DC ロサンゼルス シアトル
 サンフランシスコ ニューヨーク

- ア, イの地域名を書きなさい。
 ア[] イ[]

4 北アメリカの農業 次の問いに答えなさい。



▼農産物輸出に占める国別割合

A	アメリカ合衆国	フランス	カナダ	ロシア	その他
	20.9%	11.9	11.0	8.5	47.7

大豆	アメリカ合衆国	ブラジル	その他
	43.0%	31.0	26.0

B	アメリカ合衆国	アルゼンチン	その他
	53.0%	15.1	6.3

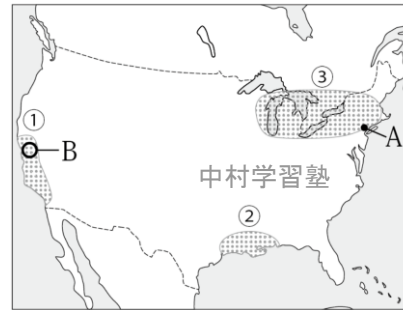
ブラジル

C	アメリカ合衆国	ブラジル	インド	その他
	47.6%	8.4	6.9	37.1

(2008年 資料より)

- ①～③の地域で栽培が盛んな農作物を下の語群から選び書きなさい。
 また、グラフのA～Cから、あてはまるものを選び、記号を書きなさい。
 ①[/] ②[/] ③[/]
 綿花 とうもろこし 小麦
- アメリカ合衆国は、世界各国に食料となる農作物を多く輸出することから何と呼ばれているか。 []
- 大豆は、①～③のうち、おもにどの地域で栽培されているか。 []
- ④の地域は、温暖な気候を利用して、地中海式農業を行っている。生産量の多い農作物を次から2つ選び書きなさい。 [/]
 オレンジ りんご なし ぶどう
- アメリカ合衆国の輸出用の農作物は、効率よく大量に生産される。これらと関係のあることから3つ選びなさい。 [/ /]
 ア:プランテーションと呼ばれる大農場で種類の少ない農作物をつくる。
 イ:それぞれの気候や土壌にあった農作物を栽培する方法をとっている。
 ウ:移民が多く、農作業に賃金が安くて多くの労働者が確保できること。
 エ:農作業には、大型機械を使い、少ない人手で高い生産をあげる。
 オ:インターネットから、天候や価格などの情報を得て、効率よく生産する。

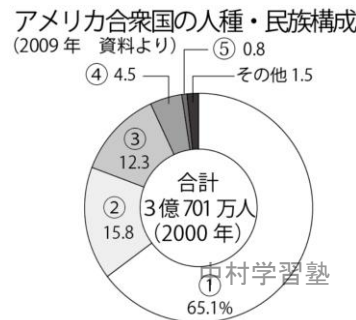
5 北アメリカの工業 次の問いに答えなさい。



- ①～③の地域の工業について適するものを次から2つずつ選びなさい。
 ①[/] ②[/] ③[/]
 ア:アメリカ合衆国で、もっとも古くから発達した工業地域。
 イ:油田を中心に石油製品などの化学工業が発展している。
 ウ:大学や研究者が集まり、先端技術産業が発展している。
 エ:サンベルトと呼ばれ、温暖で土地や賃金が安く、労働力が豊富。
 オ:コンピュータ関連産業や航空機産業が盛ん。
 カ:鉄鋼業や自動車産業が発展している。

- 世界の金融の中心のウォール街がある、Aの都市を何というか。 []
- コンピュータ関連の研究所や企業が集まるBの地域を何というか。 []

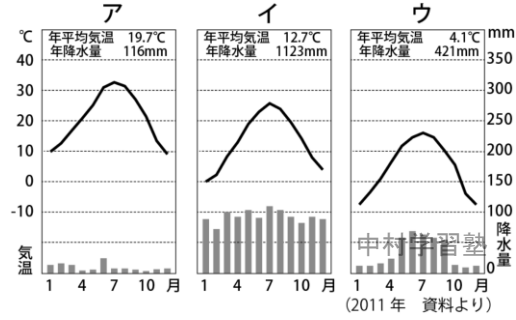
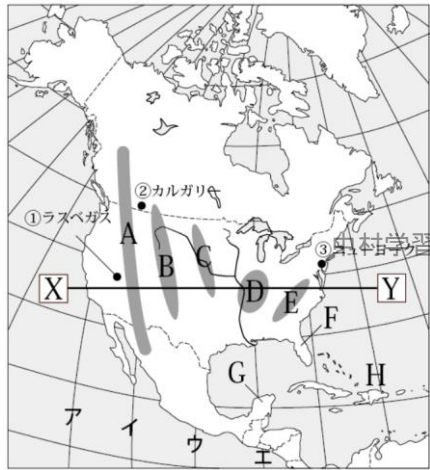
6 北アメリカの人種・民族 次の問いに答えなさい。



- 次の文は、グラフ中の①～⑤についての説明である。①～⑤にあてはまる人種・民族を語群から選び書きなさい。
 ①[] ②[] ③[]
 ④[] ⑤[]
 ①:アメリカ合衆国でもっとも多い人口である。
 ②:メキシコや南アメリカの北部からやってきた移民である。
 ③:アフリカが植民地の時代に連れて来られた人々の子孫である。
 ④:中国人街などの町をつくり、そこに住んでいる。
 ⑤:もともと北アメリカ大陸に住んでいた民族である。
- 語群:アジア系 ヨーロッパ系 アフリカ系 ネイティブアメリカン ヒスパニック
- ②の人々が話す言語は何であるか。 []
 - ③の奴隷として連れて来られた人々の子孫がつくった音楽のジャンルを選び書きなさい。 []
 フラメンコ ジャズ タンゴ クラシック

◆ 練習問題 ◆

1 北アメリカの自然 次の問いに答えなさい。



- 地図中の①～③の都市の雨温図をア～ウから選びなさい。 ①[] ②[] ③[]
- X-Yで切ったときの断面をア～ウから選びなさい。 []
- 地図中のA～Eまでの山脈名, 草原名, 平原名を書きなさい。
A[] B[] C[] D[] E[]
- 西経100度の経度を地図中のア～エから選びなさい。 []
- 西経100度を境に, 西側と東側で, どのような気候の違いがあるかを書きなさい。
[]
- 地図中のF～Hまでの半島名, 諸島名を書きなさい。これらの地域の気候帯を書きなさい。
F[] G[] H[] 気候帯[]
- カナダには2つの気候帯がある。書きなさい。 [] / []

2 多くの民族がくらす北アメリカ 次の問いに答えなさい。

北アメリカには, もともと(①)と呼ばれる先住民が住んでいた。17世紀初め, (②)が北アメリカの大西洋沿岸に(③)がカナダのケベックにそれぞれ(④)をつかった。その後, ヨーロッパの国々から, 多くの人々が(⑤)としてやってきた。⑤の人々は, 北アメリカの東部から徐々に(⑥)に向けて(⑦)していった。その結果, ①の人々は, 徐々に追いやられて, その人口が(⑧)いきました。また, アメリカ合衆国の南部では広大な(⑨)がつけられ, そこで働かせるために(⑩)から多くの人々が(⑪)として連れてこられた。その後, (⑫)からも多くの⑤としてやってくようになり, ニューヨークの中国人街などの町をつかった。最近では, (⑬)やカリブ海沿岸, 南アメリカの北部からの⑤が多くて, これらの人々は(⑭)と呼ばれて, (⑮)の言語を話す。

● 文章中の①～⑮に, あてはまる語を下の語群から選び書きなさい。ただし, ①⑤⑭は, 選ばずに書きなさい。

- ①[] ②[] ③[] ④[] ⑤[]
- ⑥[] ⑦[] ⑧[] ⑨[] ⑩[]
- ⑪[] ⑫[] ⑬[] ⑭[] ⑮[]

フランス・アフリカ・メキシコ・イギリス・アジア諸国・スペイン語・植民地・西部

減って・奴隷・開拓・綿花畑

● カナダでは, 公用語が2つある。それぞれ書きなさい。 [] / []

3 世界に影響を与える生活と文化 次の問いに答えなさい。

アメリカ合衆国の都市の郊外には, 広い(①)をもつ大型の(②)があり, 週に一度くらいで, 人々は高速道路などを利用して, (③)で出かけて, 食料品などを大量買いをする。こういった②や買い物のやり方は, 今では, 日本でもよく見られる。このようにアメリカ合衆国から世界に広まった文化は多い。食べ物では, ハンバーガーなどの(④)や, 衣服ではTシャツや(⑤)も, その一つです。ハンバーガーチェーンは世界各地に出店しており, このような世界中に店や工場が広がっている企業を(⑥)という。19世紀に五大湖周辺で鉄鋼が生産されるようになると, ③の生産が始まった。工場では, (⑦)と呼ばれる生産方法がとられ, 大量生産に成功した。この生産方法も世界に広まった。

● 文章中の①～⑦に, あてはまる語を下の語群から選び書きなさい。ただし, ③⑥⑦は, 選ばずに書きなさい。

- ①[] ②[] ③[] ④[] ⑤[]
- ⑥[] ⑦[]

ファーストフード 駐車場 ジーンズ ショッピングセンター

● _____部の方法をとると, なぜ大量に生産ができるのか, その理由を書きなさい。 []

● 世界に広まったアメリカ合衆国の文化を3つ書きなさい。 [] / [] / []

4 世界をリードする大規模な産業 次の問いに答えなさい。

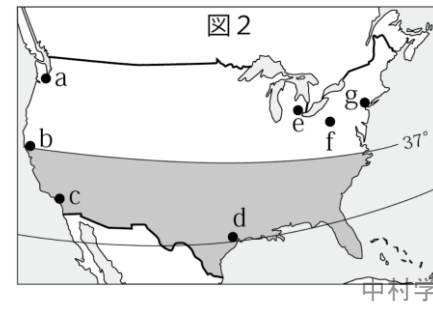
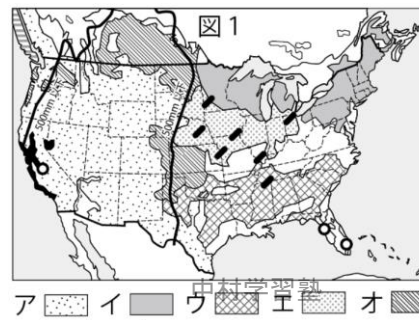


図3 日本のおもな農産物の輸出入先

品名	輸出入先	割合
ア	アメリカ合衆国	60.4%
	カナダ	20.0%
	オーストラリア	18.7%
イ	アメリカ合衆国	71.2%
	ブラジル	16.8%
	カナダ	10.4%
ウ	アメリカ合衆国	48.0%
	オーストラリア	75.6%
	ニュージーランド	6.1%
エ	アメリカ合衆国	70.7%
	南アフリカ共和国	19.4%
	オーストラリア	7.8%

- 図1は農業地域を表している。次の①～⑥にあてはまる地域をア～カから選べ。
①降水量が少ない地域で放牧が行われている。 [] ②世界有数の小麦地帯である。 []
③寒い地域で, 酪農が行われている。 [] ④広大な綿花畑が広がっている。 []
⑤とむろこし地帯。 [] ⑥温暖な地域で夏乾燥する。地中海式農業で果物や野菜の栽培。 []

- A, Bの農作物名を書きなさい。 [] / []
- 図3のア～エの農作物名を次から選び書きなさい。 → 大豆 オレンジ 牛肉 小麦
ア[] イ[] ウ[] エ[]

● アメリカ合衆国の穀物輸出のほとんどを扱い, 世界の穀物流通を支配している企業を何というか。 []
● アメリカ合衆国は「世界の食料庫」と呼ばれるくらいに, 農作物を効率よく大量に生産している。アメリカ合衆国の農業のやり方は, 「適地適作」といわれる。この「適地適作」とは何かを説明しなさい。 []

- 図2は工業地域を表している。次の①～⑥にあてはまる地域をa～gから選べ。また, 都市名を書きなさい。
①古くから自動車産業の中心地。 [] ②コンピュータ関連産業の中心地。 []
③近くに油田があり化学工業。 [] ④ウォール街があり, 世界の金融の中心。 []
⑤航空機産業(2カ所)。 [] [] ⑥古くから鉄鋼業。 []

● 図2の色がついた地域は, サンベルトと呼ばれる工業が発達した地域である。発達した理由を書け。 []
● 航空機, 宇宙産業, コンピュータ関連産業など, 最新の技術を必要とする産業を何というか。 []

◆ 一問一答 ◆

グレートプレーンズ・プレーリー・ミシシッピ川・中央平原・ネイティブアメリカン・移民・ヒスパニック・自動車・多国籍企業・放牧・小麦・世界の食料庫・穀物メジャー・五大湖・鉄鋼・自動車/デトロイト・流れ作業・先端技術産業・サンベルト・シリコンバレー・航空機

◆ 基本問題 ◆

1

A ロッキー山脈 B アパラチア山脈 C 五大湖 D ミシシッピ川 E フロリダ半島 F メキシコ湾 G カリブ海

ア・グレートプレーンズ イ・プレーリー 中村学習塾 中央平原 ①カナダ②アメリカ合衆国③メキシコ④中村学習塾⑤パナマ

2

①小麦地帯②酪農③とうもろこし地帯④綿花地帯⑤地中海式農業⑥放牧⑦100

3

▲鉄鉱石 ■石炭 井原油

①ワシントン DC ②ニューヨーク③デトロイト④サンフランシスコ⑤ロサンゼルス⑥シアトル

⑦サンベルト⑧シリコンバレー

4

①小麦/A(小麦は1位アメリカ合衆国で, 2位はカナダかフランス) ②とうもろこし/B(とうもろこしは1位アメリカ合衆国, 2位アルゼンチン, 3位ブラジル)③綿花/C(綿花は1位アメリカ合衆国, 2位ブラジル, 3位インド)・世界の食料庫・②(大豆はとうもろこし地帯と, ほぼ同じ場所で栽培されている)・オレンジ/ぶどう(ヨーロッパのフランス南部の地中海沿岸と同じように, ぶどうの生産が盛ん)・イエオ・

5

①ウ/オ(サンフランシスコ近郊にコンピュータ関連産業の集まるシリコンバレー, ロサンゼルスでは航空機の生産)②イ/エ(油田が多くヒューストンで化学工業, 北緯37度以南はサンベルトと呼ばれる)③ア/カ(ピッツバーグの鉄鋼業がもっとも古い産業の1つ, デトロイトの自動車産業)・ニューヨーク(ニューヨークには, ウォール街と呼ばれる金融機関が集まった地域がある)・シリコンバレー(サンフランシスコ郊外にコンピュータ関連産業が集まった地域があり, それをシリコンバレーという)

6

①ヨーロッパ系②ヒスパニック③アフリカ系④アジア系⑤ネイティブアメリカン・スペイン語・ジャズ

◆ 練習問題 ◆

1

①ア②ウ③イ(雨温図は折れ線グラフが毎月の平均気温, 棒グラフが毎月の降水量, ①ラスベガスは砂漠の中にある都市で雨が少なく乾燥している, ②カナダのカルガリーの気候帯は亜寒帯で, 冬の平均気温は0度を下回る, カナダの気候帯は, ほとんどの地域は亜寒帯(冷帯)と寒帯, ③ニューヨークは温帯で緯度は北緯40度付近で, 日本の青森県あたりとなるから, 冬は寒い)・ア(東側にけわしいロッキー山脈, 西側はなだらかなアパラチア山脈, 中央は平原が広がる)・Aロッキー山脈BグレートプレーンズCプレーリーD中央平原Eアパラチア山脈・ウ・西側は雨が少なく乾燥し, 東側は雨が多く湿潤である。・Fフロリダ半島Gユカタン半島H西インド諸島・熱帯・亜寒帯(冷帯)/寒帯

2

①ネイティブアメリカン②イギリス③フランス④植民地⑤移民⑥西部⑦開拓⑧減って⑨綿花畑⑩アフリカ⑪奴隷⑫アジア諸国⑬メキシコ⑭ヒスパニック⑮スペイン語・英語/フランス語

3

①駐車場②ショッピングセンター③自動車④ファーストフード⑤ジーンズ⑥多国籍企業⑦流れ作業・作業が単純になり, 製品の組み立てが速くなって多く生産できる。・大型のショッピングセンター/ハンバーガーなどのファーストフード/ジーンズ

などの衣類(Tシャツなどの衣類, コカコーラなどの清涼飲料水, ハリウッドの映画, ディズニーランドなどのテーマパークなどから3つ)

4

①ア②オ③イ④ウ⑤エ⑥カ・オレンジ/大豆・ア小麦イ大豆ウ牛肉エオレンジ・穀物メジャー・気候や土地などの自然条件にあった作物を栽培すること。・①e/デトロイト・②b/サンフランシスコ・③d/ヒューストン・④g/ニューヨーク・⑤c/ロサンゼルス, a/シアトル・⑥f/ピッツバーグ・温暖な気候で土地が安く, 比較的賃金も安く, 労働力が豊富な地域だから。・先端技術産業

中村学習塾

中村学習塾

中村学習塾

中村学習塾

中村学習塾

中村学習塾

中村学習塾

中村学習塾

中村学習塾

中村学習塾

中村学習塾

中村学習塾

中村学習塾

中村学習塾

中村学習塾

中村学習塾

中村学習塾

中村学習塾

中村学習塾

中村学習塾

中村学習塾

中村学習塾

中村学習塾

中村学習塾

中村学習塾

中村学習塾

中村学習塾

中村学習塾

中村学習塾

中村学習塾

中村学習塾

中村学習塾