

## 5 アフリカ州

### 1 アフリカの自然環境

● 広大な台地が広がる大陸…赤道をはさんで南北約 8000km の大きな大陸。大部分は高原や台地からなる。東部には、キリマンジャロ山など。北東部を流れるナイル川は世界最長で、古くから内陸と海岸を結ぶ重要な交通路。

● アフリカの気候…◆赤道付近の西部のコンゴ盆地やギニア湾岸は、熱帯で一年中暑くて多雨で、**熱帯林**が広がる。ここではいも類やバナナがよく育ち、主食は、キャッサバ(いも類)。赤道付近の東部は、熱帯で**乾季と雨季**があり、象やしましまのいる草原が広がる。◆赤道から離れるにつれて**乾燥帯**になり砂漠が広がる。北回帰線付近に世界最大の**サハラ砂漠**。◆地中海沿岸は、**温帯**。小麦やぶどうの栽培。主食は小麦からつくられるパン。

### 2 アフリカの歩みと文化

● アフリカの歩み…金や象牙など豊かな資源を求めて、16 世紀ごろからヨーロッパ人が交易にくる→19 世紀半ばまで、多くのアフリカ人が奴隷として南北アメリカに連れて行かれた→19 世紀後半～20 世紀前半にかけてアフリカ大陸のほとんどが、ヨーロッパ諸国の**植民地**として分割された→境界線は、民族のまとまりを無視して、**経線**や**緯線**で直線で引かれた→20 世紀後半(1960 年頃)に多くの国が独立→そのまま現在の国境になる→異なる民族間で争いが続く。◆今でもアフリカ諸国はヨーロッパと結びつきが強い。◆アフリカ諸国が団結して、意見を主張する動き。

● アフリカの文化と言語・宗教…音楽やおどりなど、民族固有の文化→奴隷の子孫が南北アメリカでジャズやサンバを生む。◆サハラ砂漠より北では**アラビア語**を話し**イスラム教**を信仰。南は民族によって言語がちがう→植民地時代からの**英語**や**フランス語**を公用語に、また**キリスト教**を信仰。

◆南アフリカ共和国は、長い間、アパルトヘイト(人種隔離政策)を行った。アパルトヘイトは廃止→今でも、白人と黒人との間に経済的な格差が残る。

### 3 植民地支配の歴史と産業のかかわり

● 輸出用の農産物…植民地時代、ヨーロッパ諸国によって**プランテーション**(大規模農場)がつけられた→独立後も国の重要な輸出品として生産が続く→ガーナやコートジボワール(ギニア湾岸の国々)の**カカオ**、ケニアの**茶**。

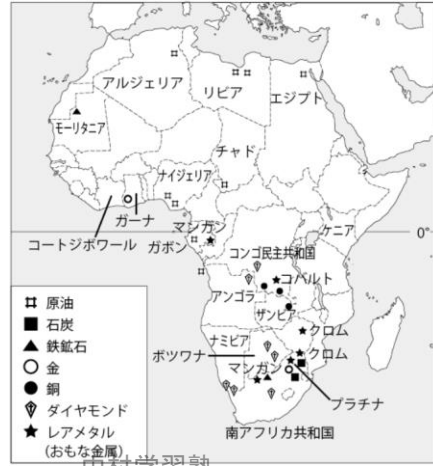
● 豊富な鉱産資源…石油や石炭、鉄鉱石などの地下資源を**鉱産資源**という。植民地時代に採掘始まる→独立後も国の重要な輸出品として生産続く→**金**(南アフリカ共和国、ガーナ)、**ダイヤモンド**(コンゴ民主共和国、ボツワナ、南アフリカ共和国)、**銅**(コンゴ民主共和国、ザンビア)→独立後の開発で、**石油**、**天然ガス**(ナイジェリア、アンゴラ)◆近年は、南アフリカ共和国などで、**レアメタル**の採掘(希少金属のこと、リチウム、チタン、クロム、コバルト、マンガンなどで、携帯電話、コンピュータなど、ハイテク機器の生産に欠かせない)→中国、インドの企業が進出。

● かつての産業と自立への取り組み…アフリカの国々の多くは、わずかな種類の農作物や鉱産資源の輸出にたよった**経済(モノカルチャー経済)**→天気により毎年の作物の量が一定しない、鉱産資源の価格の変動→国の**経済が安定しない**。国内の豊かな土地を輸出用の農作物に使うために、国内の食料の農作物の生産が不十分→深刻な食糧不足や食料を輸入にたよることになる。◆これらの問題を解決するために、作物の種類を増やす、**工業化する**、**観光業**など新しい産業の取り組み、ヨーロッパ以外にも中国などアジア諸国との結びつきを強化。◆**フェアトレード**…コーヒー茶など適正な価格で取り引きする。

#### ▼アフリカの自然



#### ▼アフリカの鉱産資源



#### ▼カカオ豆の生産



#### ▼アフリカ各国の輸出品

国	輸出品	割合 (%)	金額 (億ドル)
ナイジェリア	原油	91.3%	8.7
ケニア	衣服	-	51
ケニア	茶	18.5%	10.4
ケニア	野菜	10.4%	9.2
ケニア	切り花	5.2%	5.2
ケニア	その他	56.7%	-
コートジボワール	石油製品	21.7%	977
コートジボワール	カカオ豆	17.7%	-
コートジボワール	原油	15.5%	-
コートジボワール	その他	45.1%	-
ザンビア	銅	64.4%	50
ザンビア	鉄鉱石	13.3%	5.9
ザンビア	その他	16.4%	-
ガーナ	金(非貨幣用)	44.4%	41
ガーナ	カカオ豆	25.2%	-
ガーナ	その他	22.1%	-
ボツワナ	ダイヤモンド	99.9%	3.6
ボツワナ	野菜・果物	3.7%	-

## ◆ 一問一答 ◆

### 【アフリカの自然】

● アフリカ大陸の北東部を流れる世界最長の川を何というか。 [ / ]

● ギニア湾岸やコンゴ盆地などは、1 年中高温多雨で、樹木がおい茂っている。何という森林か。 [ / ]

● アフリカ大陸の北部の北回帰線付近に広がる世界最大の砂漠を何というか。 [ / ]

● アフリカ大陸の北部地中海沿岸の温帯の地域では、どのような作物の栽培が行っているか、2 つ書きなさい。 [ / ]

### 【アフリカの歩みと文化】

● アフリカの国々は、19 世紀後半～20 世紀前半にかけて、ヨーロッパの国々によって支配された。このような支配された地域を何というか。 [ / ]

● アフリカの国々は、直線的な国境線が多く見られる。これは、ヨーロッパの国々がアフリカを支配する際に、境界線として何を利用したからか、2 つ書きなさい。 [ / ]

● 北アフリカで、おもにに使われている言語と、そこでおもに信仰されている宗教は何か、1 つずつ書きなさい。 [ / ]

● 中央アフリカや南アフリカでは、民族ごとに話す言語が異なっているために、公用語として植民地時代から使われている言語が使われている。言語を、2 つ書きなさい。 [ / ]

● 中央アフリカや南アフリカでは、植民地時代の影響で、おもに何の宗教が信仰されているか。1 つ書きなさい。 [ / ]

### 【植民地支配の歴史と産業のかかわり】

● 植民地時代に、ヨーロッパの国々によって開かれた大規模な農場を何というか。 [ / ]

● ギニア湾沿岸のコートジボワールやガーナで生産が盛んな農作物を書きなさい。 [ / ]

● ケニアで生産が盛んな農作物を書きなさい。 [ / ]

● 石油や石炭、鉄鉱石などの地下資源を一般に何というか。 [ / ]

● 埋蔵量が少ない金属のリチウム、チタン、クロム、コバルト、マンガンなどを何というか。 [ / ]

● 世界の中でも特に金の生産が多く、また、石炭、鉄鉱石の産出の多い国はどこか。 [ / ]

● コンゴ民主共和国、ボツワナ、南アフリカ共和国で多く産出される貴金属は何か。 [ / ]

● コンゴ民主共和国、ザンビアで多く産出される鉱産資源は何か。 [ / ]

● ナイジェリアやアンゴラで多く産出される地下資源は何か、2 つ書きなさい。 [ / ]

● アフリカの国々の多くは、種類の少ない農作物や鉱産資源の輸出にたよった**経済**で、農作物の収穫量や鉱産資源の価格の変動で、国の**経済が安定しない**。このような**経済**を何というか。 [ / ]

● アフリカの農作物や製品を適正な価格で取り引きするしくみを何というか。 [ / ]





◆ 練習問題 ◆

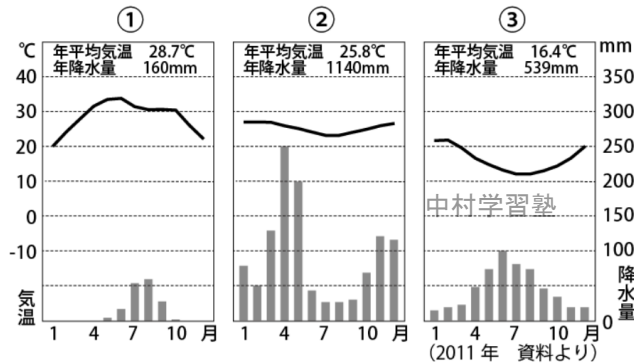
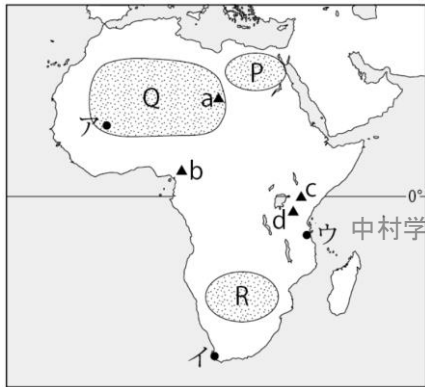
1 アフリカの自然 次の問いに答えなさい。

アフリカは( ① )をはさんで南北に約 8000km の範囲に広がる大きな大陸である。大陸の大部分は、標高 1000m 以上の( ② )からなる。北東部を流れる( ③ )は世界最長であり、古くから内陸と海岸を結ぶ重要な( ④ )である。また、東部には標高 3000m をこえる山脈があり、( ⑤ )やキリニャガ(ケニア)山などの火山がみられる。しまや象のいる草原は、アフリカ大陸の赤道付近の東部にあり、雨の多い時期の( ⑥ )と少ない時期の( ⑦ )がある。同じ熱帯地域でも、西部の( ⑧ )沿岸やコンゴ盆地では、年中高温多雨で、( ⑨ )におおわれている。ここでは、主食としてバナナやキャッサバという( ⑩ )が主食となっている。赤道からはなれるにつれて気候帯が熱帯から( ⑪ )である草原に、やがては( ⑫ )へと移り変わる。北回帰線付近には世界最大の( ⑬ )が広がる。地中海沿岸やアフリカ大陸の南端の気候帯は( ⑭ )で、( ⑮ )やぶどうが栽培される地域があり、この地域では⑮でつくったパンが主食となっている。

●文章中の①～⑬に、あてはまる語を下の語群から選び書きなさい。

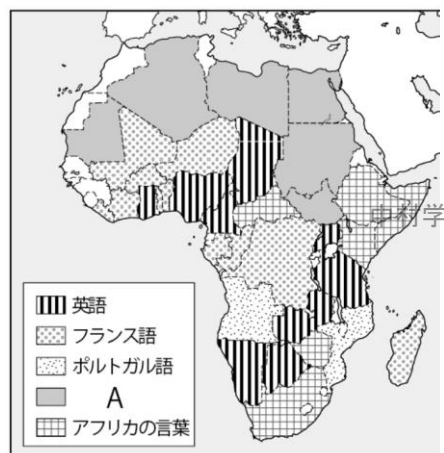
- ①[                    ] ②[                    ] ③[                    ] ④[                    ] ⑤[                    ]  
 ⑥[                    ] ⑦[                    ] ⑧[                    ] ⑨[                    ] ⑩[                    ]  
 ⑪[                    ] ⑫[                    ] ⑬[                    ] ⑭[                    ] ⑮[                    ]

ナイル川・キリマンジャロ山・熱帯林・砂漠・雨季・乾季・赤道・交通路  
 高原や台地・ギニア湾・サハラ砂漠・小麦・いも類・乾燥帯・温帯



- 地図中の都市 A～C にあてはまる雨温図は①～③から選びなさい。 A[                    ] I[                    ] U[                    ]  
 ●キリマンジャロ山とキリニャガ(ケニア)山を、この順で、地図中の a～d から選びなさい。 [                    /                    ]  
 ●サハラ砂漠を地図中の P～R から選びなさい。 [                    ]

2 アフリカの歩みと文化 次の問いに答えなさい。



- 地図中 A は何語か、またその地域でおもに信仰されている宗教は何か。 [                    /                    ]  
 ●アフリカの多くの国々は、民族によってさまざまな言語が話されていることから、英語やフランス語、ポルトガル語などが国の公用語とされている。これらの言語が採用された理由を書きなさい。 [                    中村学習塾                    ]  
 ●また、これらの地域でおもに信仰されている宗教は何か。また、そうなった理由を書きなさい。 [                    宗教名                    ]  
 ●16～19 世紀、アフリカの多くの人が南北アメリカに連れていかれた理由。 [                    ]

3 植民地支配の歴史と産業のかかわり 次の問いに答えなさい。

アフリカの国々は、( ① )の時代に、ヨーロッパ諸国の支配のもとに( ② )とよばれる大農場がつけられ、農作物の栽培や、金・ダイヤモンド・銅などの( ③ )の採掘が広まった。さらに生産したものを輸出するための港や( ④ )の設備が建設された。例えば、ガーナでは、チョコレートの原料となる( ⑤ )の栽培が広まった。このほかに、ケニアでは( ⑥ )の栽培が広まった。これらの国々では、独立後も重要な輸出品として生産されている。このことから、アフリカでは、種類の少ない農作物と③の輸出にたよっている国が多い。このような国の経済を( ⑦ )と呼ぶ。種類の少ない農作物や鉱産資源の生産にたよっているため、国の経済が( ⑧ )しない。この理由は、毎年の天候によって農作物の( ⑨ )が一定しないことや、年によって( ⑩ )や( ⑪ )が変動するためである。さらに、農地のほとんどが輸出用の農作物の生産に使われるので、国民の食べる( ⑫ )が不足して、輸入することもある。これらの経済問題を解決するために、作物の( ⑬ )を増やす中農業者だけでなく、国内の( ⑭ )を進める、新しい産業の( ⑮ )などの取り組みが行われている。独立後に、ナイジェリアやアンゴラなどでは、( ⑯ )や天然ガスの開発がされた。近年では、アフリカのいろいろな国々で、( ⑰ )やコンピュータの生産に欠かせないリチウムなどの埋蔵量の少ない金属である( ⑱ )の採掘や開発などが進められている。また、昔から続くヨーロッパ諸国との結びつきだけではなく、新たに中国や( ⑲ )との経済的な結びつきを強めようとしている。また、アフリカの諸国が団結して、国際社会に( ⑳ )を主張しようとする動きも強まっている。

●文章中の①～⑳に、あてはまる語を下の語群から選び書きなさい。

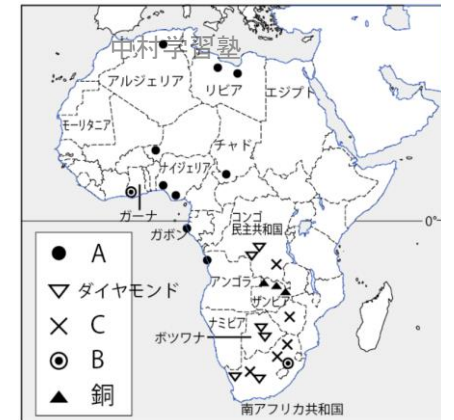
- ①[                    ] ②[                    ] ③[                    ] ④[                    ] ⑤[                    ]  
 ⑥[                    ] ⑦[                    ] ⑧[                    ] ⑨[                    ] ⑩[                    ]  
 ⑪[                    ] ⑫[                    ] ⑬[                    ] ⑭[                    ] ⑮[                    ]  
 ⑯[                    ] ⑰[                    ] ⑱[                    ] ⑲[                    ] ⑳[                    ]

鉱産資源・石油・プランテーション・工業化・食料・携帯電話・植民地・アジア諸国・観光業  
 鉄道・カカオ・茶・収穫量・価格・モノカルチャー経済・安定・意見・売れる量・種類・レアメタル

アフリカ各国の輸出品

ザンビア 51 億ドル	中村学習塾 64.4%	鉄鉱石 13.3	その他 16.4
ナイジェリア 818 億ドル	A 91.3%	金属製品 5.9	その他 8.7
ガーナ 40 億ドル	B 45.4%	ア 25.2	木材 3.6
コートジボワール 978 億ドル	石油製品 21.7%	ア 17.7	原油 15.5
ケニア 50 億ドル	イ 18.5%	野菜 10.4	切り花 9.2
		衣類 5.2	その他 56.7

(2010年 資料より)



- 輸出品や地図中の A, B のあてはまる資源名を書きなさい。 A[                    ] B[                    ]  
 ●地図中 C の資源を総称して何というか。また、資源名を 1 つ書きなさい。 [                    /                    ]  
 ●ア, イにあてはまる農作物名を書きなさい。 A[                    ] I[                    ]  
 ●輸出品のグラフから、アフリカの国々の輸出の特色を書きなさい。 [                    中村学習塾                    ]  
 ●このような経済を何というか。 [                    ]  
 ●このような経済では、どのような問題が起こるか、書きなさい。 [                    ]  
 ●これらの問題を解決するために、どのような取り組みがされているか、書きなさい。 [                    ]

◆ 一問一答 ◆

ナイル川・熱帯林・サハラ砂漠・小麦/ぶどう・植民地・緯線/経線・アラビア語/イスラム教・英語/フランス語・キリスト教・プランテーション・カカオ・茶・鉱産資源・レアメタル・南アフリカ共和国・ダイヤモンド・銅・石油(原油)・モノカルチャー経済・フェアトレード

◆ 基本問題 ◆

1

①エジプト②アルジェリア③モロッコ④ガーナ⑤ナイジェリア⑥コンゴ民主共和国⑦南アフリカ共和国⑧ケニア

A サハラ砂漠・B ナイル川・C コンゴ川・D ギニア湾・E 地中海・F ビクトリア湖・G マダガスカル

中村学習塾

中村学習塾

中村学習塾

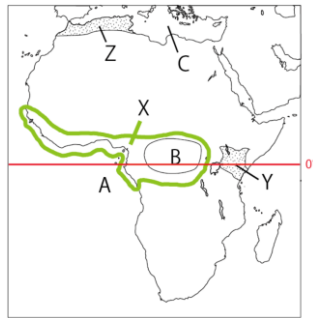
中村学習塾

2

①石油②石炭③鉄鉱石④金⑤ダイヤモンド⑥銅⑦レアメタル

A コートジボワール・B ナイジェリア・C コンゴ民主共和国・D アンゴラ・E ザンビア・F ボツワナ・G 南アフリカ共和国

3



・ア→ウ→イ・A ギニア湾 B コンゴ盆地 C 地中海・熱帯林・YウZイ

4

A ナイジェリア③・B ケニア④・C ガーナ②・D ザンビア⑤・E コートジボワール①・種類の少ない農作物や鉱産資源の輸出となっている。・モノカルチャー経済・イ/エ・ア/ウ・プランテーション・フェアトレード

中村学習塾

中村学習塾

中村学習塾

中村学習塾

◆ 練習問題 ◆

1

①赤道②高原や台地③ナイル川④交通路⑤キリマンジャロ山⑥雨季⑦乾季⑧ギニア湾⑨熱帯林⑩いも類⑪乾燥帯⑫砂漠⑬サハラ砂漠⑭温帯⑮小麦・ア①イ③ウ②(気温図は、折れ線グラフが毎月の平均気温、棒グラフが毎月の降水量を表す。アは砂漠で雨が少ない地域、イは南アフリカ共和国で温帯の地域また南半球だから7,8月が冬で北半球と反対、ウは熱帯で一年中気温が高く多雨の地域)・d/c・Q

2

アラビア語/イスラム教・植民地時代に使われていた言葉だから。・キリスト教/植民地時代にヨーロッパの国々からもたらされたから。・奴隷として、働かせるため。

3

植民地・プランテーション・鉱産資源・鉄道・カカオ・茶・モノカルチャー経済・安定・収穫量・売れる量・価格(⑩と①の、2つは逆でもよい)・食料・種類・工業化・観光業・石油・携帯電話・レアメタル・アジア諸国・意見  
A 原油(石油)・B 金・レアメタル/リチウム、チタン、クロム、コバルト、マンガンから1つ・⑦カカオ・①茶・種類の少ない農作物や鉱産資源の輸出になっている。・モノカルチャー経済・種類の少ない農作物や鉱産資源の輸出にたよっているから国の経済が安定しない。・農作物の種類を増やすことや工業化が進められている。

中村学習塾

中村学習塾

中村学習塾

中村学習塾