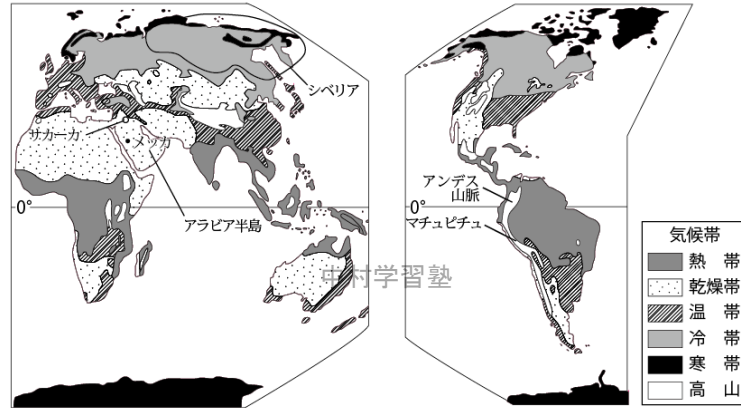
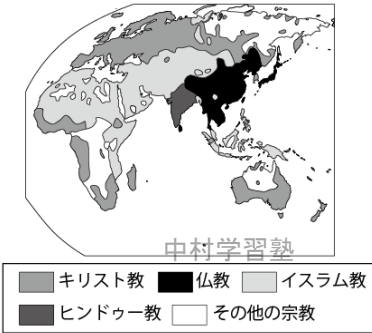


2 世界各地の人々の生活と環境

▼世界の気候



▼世界の宗教分布



1 暑い地域のくらし

- ツバルの位置と自然…赤道付近は1年中高温で多雨で、**熱帯林**におおわれる。オセアニア州にあるサンゴ礁のできた島のツバルや、フィジーはこの地域にある。
- 生活…**ココヤシ**を生活に利用。伝統的な家は、屋根は木の葉、壁はなしで、高床式。伝統的な料理は、ココヤシの実からとったココナツや、パンの木の実、畑でとれるいも、海でとれる魚貝類など。
- 生活の変化…輸入品の増加して、テレビ、コンクリートの家、缶詰、米や冷凍の肉などが普及。主食が、ココナツ→米に、魚貝→肉に変化。**ゴミが増加**して、処理が出来ない問題が起こる。

2 寒い地域のくらし

- シベリアの位置とくらし…ユーラシア大陸の北に広がるシベリア。冬は、 -30°C 以下もある。
- 生活…**永久凍土**が建物の熱でとけないように、**高床**の建物。窓は、2重、3重のつくりで、壁は厚い。町から送られてくる温水で暖房される。外出時は、**毛皮のコート**など。短い夏の間野菜をつくり、冬の保存食としてつけ物にする。つけ物の野菜と魚や肉の食事。
- 生活の変化…輸入品の増加。冬でも新鮮な野菜(中国から輸入)がある。外国の食文化も入る。日本や韓国などから電気製品の輸入。

3 乾燥した地域のくらし

- アラビア半島の位置と自然…アラビア半島には**砂漠**が広がる。人々は水を得られる**オアシス**で生活。
- 生活…オアシスで**小麦**や**なつめやし**を栽培。人と家畜の**羊**や**らくだ**が、牧草や水を求めて移動する**遊牧**。強い日差しをさけるため、長そで、たけの長い服。雨が少ないから、土でつくった**日干しれんが**を利用して家がつられる。
- 生活の変化…**サウジアラビア**などは**石油(原油)**で得た利益で、農業ができるように国土を開発。海水を淡水にかえて利用。または地下水をくみ上げて、農業に利用して、大規模な農場がつくれる。地下水不足が問題に。

4 高地のくらし

- アンデス山脈**の位置と自然…標高が高い。昼と夜の温度差が大きい。
- 生活…急斜面を畑にして、とうもろこし、じゃがいもの栽培。それ以上の高地では、**リャマ**、**アルパカ**の**放牧**(放牧とは広い地域に、家畜を放し飼いにして育てるやり方)。アルパカの毛から衣類など。
- 生活の変化…携帯電話やインターネットの普及。世界遺産のマチュピチュなどの観光客の増加から、お土産物などの**観光産業**。

5 世界の気候帯…熱帯(1年中高温多雨)・乾燥帯(1年中雨少ない)・温帯(四季があって、夏高温、冬やや寒い)・亜寒帯(冷帯)(短い夏に気温が上がるが、長い冬は寒さ厳しい)・寒帯(1年中寒さ厳しい)

- 雨温図**(うおんず)…1~12月までの降水量を棒グラフに、毎月の平均気温を折れ線グラフにしたもの。

6 世界の住居・衣服とその変化

- 住居…その地域の気候や生活にあった材料の利用、森林の多い**亜寒帯**や**温帯**は、**木**を使った家。乾燥帯は、**土**を

使った家。日ざしの強い地域(地中海沿岸など)は、**石**を使った家→近年は、どこの地域でもコンクリート製の家が増加。寒い地域では、壁を厚くして窓を小さくして、部屋の暖かさが逃げない工夫。

- 衣服…その地域の気候にあった形や素材→近年では世界中でTシャツやジーンズが普段着になる。

7 世界の食文化とその変化

- 世界で異なる食文化…**米**は雨の多い地域で栽培され**主食**とされる→東南アジア、中国南部、日本など。**小麦**は雨の少ない地域で栽培され**主食**となる→中国北部やインド西部。とうもろこしは、メキシコやアフリカなどで**主食**。**いも類**は南太平洋の島々、南アメリカ(**じゃがいも**)で**主食**。
- 食文化の変化…世界の国々の交流がさかん→他国の食文化が浸透する。ハンバーガーなどは、世界中に普及。

8 宗教と生活とのかかわり

- 三大宗教**…**仏教**→東南アジアから東アジア、**キリスト教**→ヨーロッパ、南北アメリカ、オセアニア。イスラム教→西アジアから北アフリカ、中央・東南アジア。**イスラム教**では、聖地メッカに向かって1日5回の祈り、豚肉は食べない、女性は、はだを見せないなど。◆インドでは、**ヒンドゥー教**(三大宗教ではない)。

◆ 一問一答 ◆

【暑い地域、寒い地域、乾燥した地域のくらし、高地のくらし】

- 一年中暑く、雨の多い赤道付近の地域に広がっている森林を何というか。 []
- 北の地域にある長い年月、凍ったままの土地を何というか。 []
- 1~12月までの月別の降水量と平均気温を棒グラフと折れ線グラフで表した図を何というか。 []
- 砂漠の中で、水がわいているところや、井戸や水路から水を得ることができる場所を何というか。 []
- 牧草や水を求めて、家畜を育てながら移動する牧畜を何というか。 []
- アンデス山脈の高いところでは、リャマやアルパカが放し飼いにしている。この飼育の仕方を何というか。 []

【世界の気候帯】

- 赤道付近を中心に広がり、一年中暑くて、雨が多い気候帯を何というか。 []
- 西アジアや北アフリカに多く、雨が大変に少なく、砂漠や草原になっている気候帯を何というか。 []
- 四季の変化がはっきりしていて、気温や降水量は四季によって変化する気候帯は何というか。 []
- 北部に広がる地域で、寒さが厳しく長い冬と、短い夏もある気候帯は何というか。 []
- 一年中、雪と氷におおわれた南極、北極などの気候帯を何というか。 []

【世界の食文化とその変化】

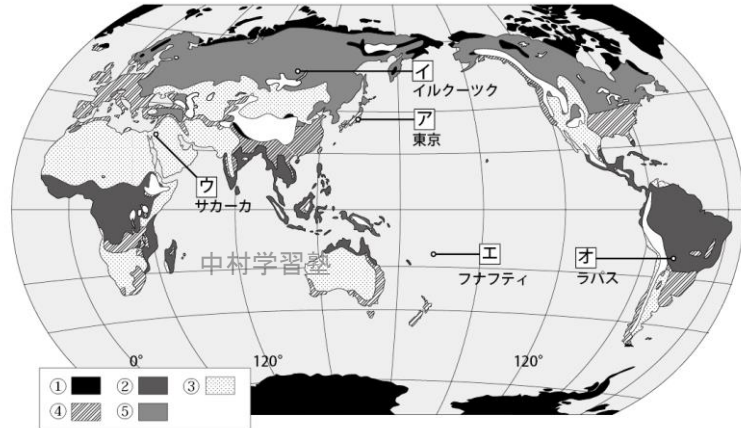
- 多雨な地域で栽培され日本を含む東アジアや東南アジアなどで**主食**となっている作物は何であるか。 []
- 雨の少ない地域で栽培され、ヨーロッパや北アメリカで**主食**となっている作物は何であるか。 []

【宗教と生活とのかかわり】

- 三大宗教の中で、東南アジアから東アジアにかけて信仰されている宗教は何か。 []
- 三大宗教の中で、ヨーロッパや南北アメリカ、オセアニアなどで信仰されている宗教は何か。 []
- 三大宗教の中で、メッカのある西アジアを中心にして、アフリカ北部、中央アジアなどで信仰されている宗教は何か。 []

◆ 基本問題 ◆

1 気候帯・雨温図 次の問いに答えなさい。



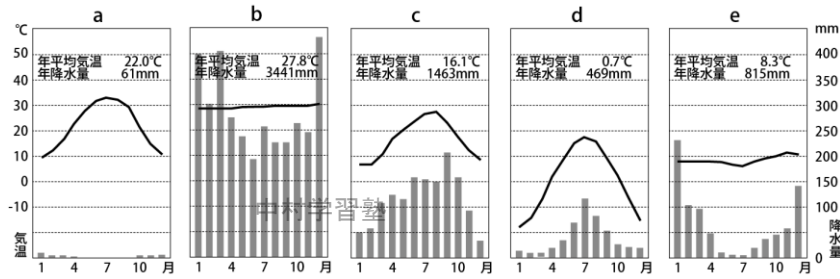
中村学習塾

● 地図中の①～⑤の気候帯を書きなさい。

① [] ② [] ③ [] ④ [] ⑤ []

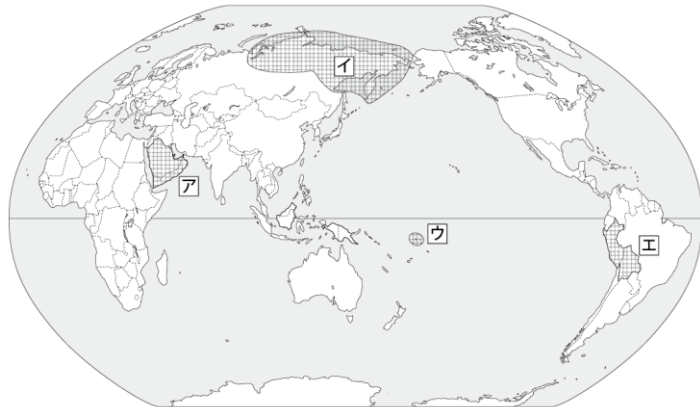
● 地図中のア～オの地域にあてはまる雨温図を下のa～eから選びなさい。

ア [] イ [] ウ [] エ [] オ []



中村学習塾

2 地域のくらし 次の問いに答えなさい。



● ア～エの地域の名称を①～⑤から1つずつ選びなさい。また、その地域の特色をa～hから2つずつ選びなさい。同じものを2回選ぶことはない。

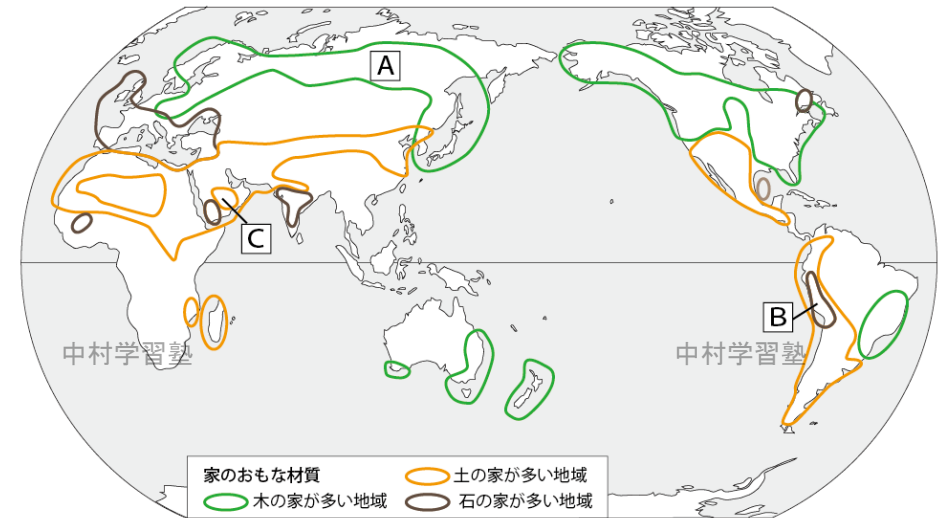
中村学習塾

中村学習塾

ア [/ /] イ [/ /] ウ [/ /] エ [/ /]

- ① アンデス山脈 ② ツバル ③ シベリア ④ アラビア半島
- a リャマやアルパカの放牧 b ココヤシ c 永久凍土 d ごみの処理が問題
- e 毛皮のコート f 羊やらくだの遊牧 g ジャガイモ h オアシス

3 気候帯と地域の住居とくらし 次の問いに答えなさい。



● 木の材質の家は、どの気候帯に多いか、2つ書きなさい。

[/]

● また、その理由は何だと考えられますか。

[]

● 土の材質の家は、アフリカ大陸の北部や西アジアに多い。

この気候帯を、1つ書きなさい。

[]

● また、その理由は何だと考えられますか。

[]

● 石の材質の家が多いイタリア南部やギリシャでは、家の壁を厚くして白くぬり、窓を小さくしている。こうする理由を書きなさい。

[]

● 壁を厚くして、窓を小さくしている家は、AやBの地域にも見られる。

こうする理由を書きなさい。

中村学習塾 []

● Cの半島では、どんな場所で農業が行われているか。またどのような作物か。ア～ウから選びなさい。

ア: 米, はくさい イ: とうもろこし, トマト ウ: 小麦, なつめやし [/]

● Cの半島では、どのような服装をしているか。ア～ウから選びなさい。

ア: 長そででたけの長い服 イ: アルパカの毛でできた服 ウ: 半そでの服と半ズボン []

● そのような服装になる理由を書きなさい。

[]

4 世界の宗教 次の問いに答えなさい。

● ①～④の宗教名を書きなさい。

① [] ② []

③ [] ④ []

● ①～③の宗教を開いた人をア～ウから選びなさい。

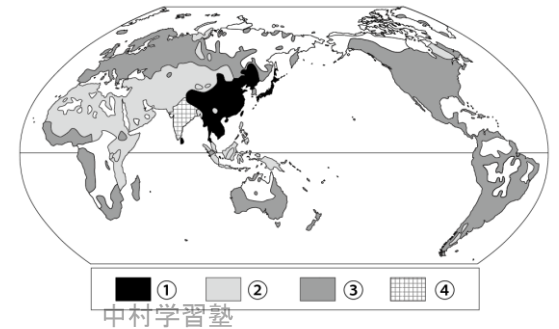
それぞれに関係の深いものをa～fから2つずつ選びなさい。同じものを2回選ぶことはない。

① [/ /] ② [/ /] ③ [/ /]

ア: ムハンマド イ: シャカ ウ: イエス

a: 世界で最も多くの信者がいる b: メッカに向かって1日5回のいのり c: 仏像などの彫刻

d: 女性ははだを見せない e: 日本や朝鮮半島で多くの信者がいる f: クリスマスの行事



中村学習塾

◆ 練習問題 ◆

1 暑い地域のくらし 次の問いに答えなさい。

赤道付近には、1年中気温が高く、雨が多く降る地域がある。この地域には、1年中緑の葉がしげる(①)がある。ツバルの伝統的な家は、(②)をかさねて屋根をつくり、壁はなく床が高床になっている。ツバルの伝統的な料理は、(③)の実からとったココナツや、パンの木の实、畑でとれる(④)や海からとれる(⑤)です。これらを蒸し焼きにして食べる。できた料理は、ココヤシの葉でつくった皿にもりつけられる。調理の途中にでるココヤシの实の皮や殻は、(⑥)として燃やされ、ココナツのしぼりかすなどは(⑦)にえさとして与えるので、(⑧)が出ない。近年、外国からの(⑨)が増えて、食生活などの生活が変化した。オーストラリア産の(⑩)や冷凍の(⑪)も売られるようになり、主食も変わった。これらの外国からのものが多く輸入されるようになると、小さな島では、新たな問題も起こっている。

●上の文中の①～⑫にあてはまる語を下の語群から選び、書きなさい。

①[] ②[] ③[] ④[] ⑤[]
⑥[] ⑦[] ⑧[] ⑨[] ⑩[]
⑪[]
いも ごみ 熱帯林 ココヤシ 燃料 米 木の葉 魚貝類 家畜 肉 輸入品

●上の文の地域の気候帯を書きなさい。 []

●下線部について、小さな島では、輸入品が増加することで、新たな問題が起こっている。

次の4語をつかって、説明しなさい。「電気製品」「プラスチック」、「ごみ」、「処理」
[]

2 寒い地域のくらし 次の問いに答えなさい。

(①)大陸の北に広がるシベリアは、夏には気温が 20℃くらいまで上がるが、冬は-30℃以下まで下がることもある。シベリアにある建物の多くは、(②)の構造になっている。これは、この地域が(③)という凍った土の上にあるので、建物から出る熱がこれをとがして、建物がかたむくことを防ぐためである。建物の窓は2重、3重で(④)は30cmもの厚さがある。部屋の暖房は、町の暖房センターから送られてくる(⑤)が使われ、室内は暖かい。外出するときは、トナカイや馬の(⑥)のできたコートやブーツで、帽子を着用する。短い夏に野菜をつくり、それを冬の保存食として(⑦)にする。近年、ヨーロッパや(⑧)から輸入された食品が1年中豊富に並ぶようになった。冬でも新鮮な(⑨)や果物を買うことができる。(⑩)や韓国から電気製品などが輸入され、生活が便利になった。

●上の文中の①～⑫にあてはまる語を下の語群から選び、書きなさい。

①[] ②[] ③[] ④[] ⑤[]
⑥[] ⑦[] ⑧[] ⑨[] ⑩[]
永久凍土 温水 ユーラシア 中国 日本 毛皮 高床 つけ物 野菜 壁

●上の文の地域の気候帯を書きなさい。 []

3 乾燥した地域のくらし 次の問いに答えなさい。

アラビア半島には(①)が広がっている。そこに生活する人々は、自然に水がわき出るところや、地下水路や井戸で水が得られる(②)と呼ばれる場所に住んでいる。ここでは乾燥に強い作物である(③)や(④)が栽培される。またこの周辺では、水や草を求めて、羊やらくだの家畜と移動しながら飼育する(⑤)が行われている。多くの家は、土をこねて形をつくり、強い日ざしで乾燥させてつくる(⑥)を利用して建てられている。アラビア半島の国々のうち、多くの(⑦)を産出する(⑧)では、輸出で得た利益を利用して、海水を(⑨)に変える技術の導入や、(⑩)をくみ上げて農業に利用することで大規模な農場をつくり、野菜などの栽培も行っている。

●上の文中の①～⑫にあてはまる語を下の語群から選び、書きなさい。

①[] ②[] ③[] ④[] ⑤[]
⑥[] ⑦[] ⑧[] ⑨[] ⑩[]
遊牧 小麦 日干しれんが 砂漠 サウジアラビア オアシス なつめやし 淡水 原油 地下水

●下線部について問題が起こることも心配されている。どのようなことですか、書きなさい。
[]

4 高地のくらし 次の問いに答えなさい。

赤道近くの高地では、年間の気温の変化はあまりないが、1日の昼と夜の気温差は20～30℃と大きい。アンデス山脈の人々は、標高が2000～3000m くらいのところでは、(①)をそれよりも高く寒いところでは、(②)を栽培している。農業に向かない4000m以上のところでは、(③)や(④)などの家畜を(⑤)している。人々は、(④)の毛でつくった衣類を重ね着して帽子をかぶり、寒さと強い(⑥)を防ぐ。(③)は、トラックが入れないような高いところや、細い道などの場所で(⑦)を運ぶのに使われる。近年、生活が変化して、(⑧)やインターネットを使う人々が増えた。(⑨)に登録されたマチュピチュなどを見る(⑩)が増えて、みやげものを売る店も増えた。

●上の文中の①～⑫にあてはまる語を下の語群から選び、書きなさい。

①[] ②[] ③[] ④[] ⑤[]
⑥[] ⑦[] ⑧[] ⑨[] ⑩[]
リャマ アルパカ ジャがいも 荷物 世界遺産 観光客 紫外線 とうもろこし 携帯電話 放牧

5 世界の食文化とその変化 次の問いに答えなさい。

世界各地の食事の中心となる食べ物のことを(①)という。この①は、その地域でつくられる農作物と深いかわりがある。日本や東南アジア、中国南部の雨が多く降る地域では、(②)がおもに栽培されて、この地域の①となっている。雨の比較的少ない地域では、(③)が栽培されて、ヨーロッパの国々などで、パンやめんにして食べられている。そのほかに、メキシコでは、(④)を粉にして、それを練ってのばして焼いたものであるトルティーヤを食べている。また、④は(⑤)の地域では、湯でこねて蒸し焼きにしたものを食べている。南太平洋の熱帯の島々では、(⑥)などを食べている。南アフリカでは、(⑦)などが食べられている。

●上の文中の①～⑫にあてはまる語を下の語群から選び、書きなさい。 []

①[] ②[] ③[] ④[] ⑤[]
⑥[] ⑦[]
米 アフリカ ジャがいも ヤムいも 主食 小麦 とうもろこし

◆ 一問一答 ◆

熱帯林・永久凍土・雨温図・オアシス・遊牧(広い地域をえさとなる草や水を求めて, 家畜と人が, 旅をする)・放牧(家畜を広い場所に放し飼いにしている)・熱帯・乾燥帯・温帯・冷帯(亜寒帯)・寒帯・米・小麦・仏教・キリスト教・イスラム教

◆ 基本問題 ◆

1

①寒帯②熱帯③乾燥帯④温帯⑤冷帯(亜寒帯)

アc(夏の平均気温28℃, 冬は8℃付近, 夏は雨が多いのは日本)イd(夏の平均気温18℃, 冬は-9℃付近は, 冷帯のイルクーツク)ウa(1年中, 雨が北内学習塾から乾燥帯)エb(1年中, 平均気温が28℃, 中村学習塾)オe(1年中で気温差がほとんどないので, 熱帯の地域で高地であることがわかるから, アンデス山脈の地域になる)

2

ア④fh・イ③ce・ウ②bd・エ①ag

3

冷帯(亜寒帯)と温帯・森林が多いから。・乾燥帯・強い日ざしを防ぐため。・寒さを防ぐため。・オアシスとウ(小麦やなつめやしは, 乾燥に強い作物)・ア・強い日ざしを防ぐため。

4

①仏教②イスラム教③キリスト教④ヒンドゥー教(インドは仏教の開かれたところだが, 今はヒンドゥー教となっている, 三大宗教ではない)・①イce②アbd③ウaf

◆ 練習問題 ◆

1

①熱帯林②木の葉③ココヤシ④いも⑤魚貝類⑥燃料⑦家畜⑧ごみ⑨輸入品⑩米⑪肉
熱帯・不要となった電気製品やプラスチックのごみが出て, 処理ができない。

2

①ユーラシア②高床③永久凍土④壁⑤温水⑥毛皮⑦つけ物⑧中国⑨野菜⑩日本
冷帯(亜寒帯)

3

①砂漠②オアシス③小麦④なつめやし(③と④の逆も可)⑤遊牧⑥日干しれんが⑦原油⑧サウジアラビア⑨淡水⑩地下水
大量の地下水のくみ上げにより, 地下水がなくなる心配がある。

4

①とうもろこし②じゃがいも③リャマ④アルパカ⑤放牧⑥紫外線(太陽光に含まれる紫外線は, 太陽光が地球の大気層を通過するときに減少するので, 高度の低い地域では, 紫外線はある程度減っているが, 高度の高い地域では, 紫外線が十分に減っておらず, 人々は紫外線を多くあびることになる)⑦荷物⑧携帯電話⑨世界遺産⑩観光客

5

①主食②米③小麦④とうもろこし⑤アフリカ⑥ヤムいも⑦じゃがいも

中村学習塾

中村学習塾

中村学習塾

中村学習塾

中村学習塾

中村学習塾

中村学習塾

中村学習塾